

Евгений Панюков

**ИГРА ГО
ВТОРОЙ ЗАДАЧНИК
ДЛЯ НАЧИНАЮЩИХ
(IV часть,
повторение пройденного)**

Содержание

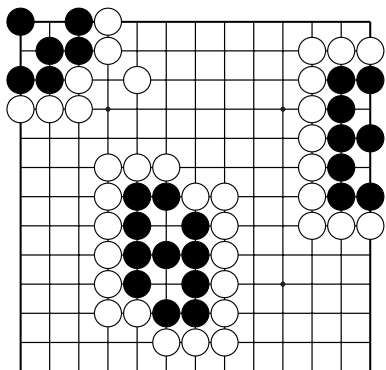
Жизнь и смерть групп.....	1
Статус группы	30
Сэки	35
Ко-борьба	41
Конкурс решения задач	45
Контрольные и итоговые тесты	57

Угол – сторона – центр

На игровых полях 13x13 и 19x19 первый камень обычно ставят в углу, но не ниже третьей линии!

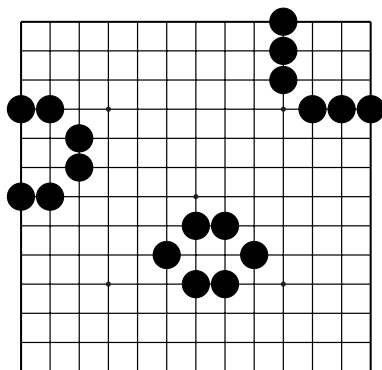


Угол – очень важная часть игрового поля, этому есть простые доказательства.



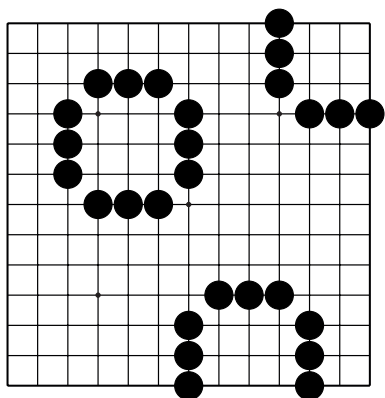
Д.1. Доказательство I:

Чтобы построить живую группу нужно в углу – шесть камней, на стороне – восемь, в центре – одиннадцать.



Д.2. Доказательство II:

Шестью камнями можно окружить в углу девять очков, на стороне – четыре, в центре – два.



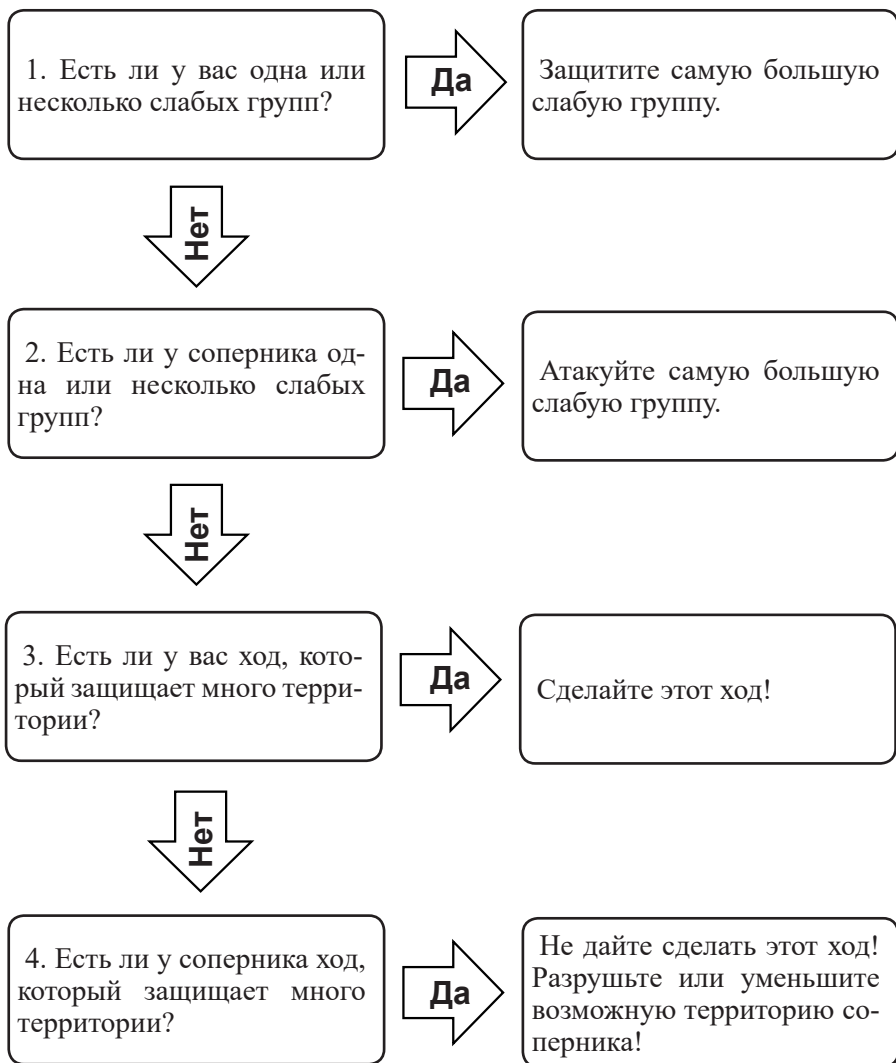
Д.3. Доказательство III:

Чтобы окружить девять очков, в углу нужно поставить шесть камней. На стороне – девять камней. В центре – двенадцать!

Очевидно, чтобы построить территорию в центре, нужно приложить больше усилий (поставить больше камней), чем на стороне, а на стороне больше, чем в углу.

Доказательства построения живых групп и территории определяет последовательность игры: **угол – сторона – центр!**

Чтобы выбрать следующий ход, нужно ответить на 4 вопроса:

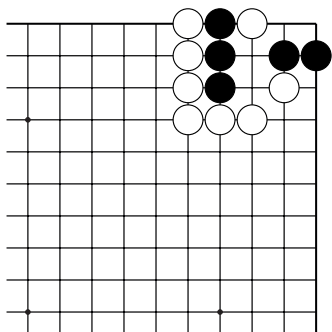


Идеальный ход преследует несколько целей, но приоритет отдавайте ходу, который отвечает на один из этих вопросов.

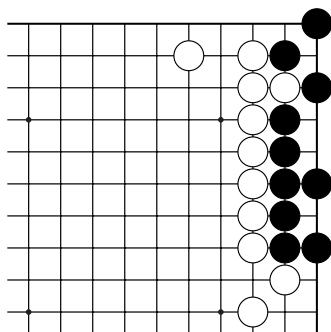
Жизнь и смерть групп

Ход чёрных. Как выжить?

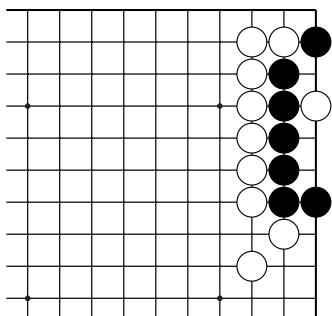
Укажите 1 ход.



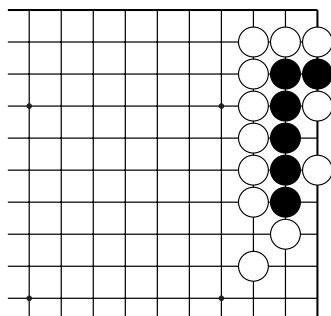
№1



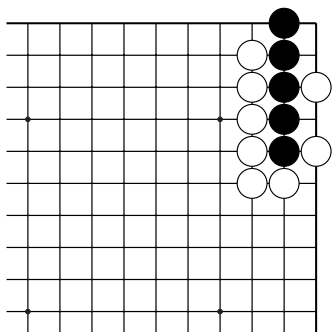
№2



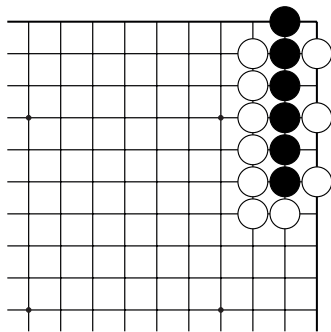
№3



№4



№5

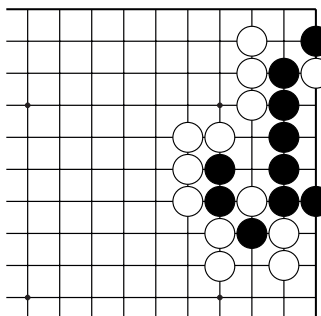


№6

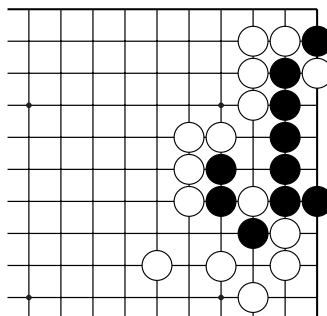
Жизнь и смерть групп

Ход чёрных. Как выжить?

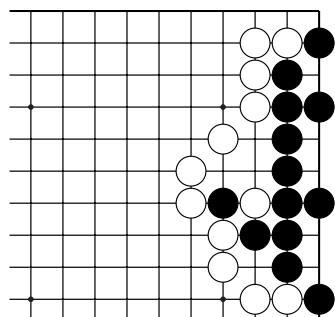
Укажите 1 ход.



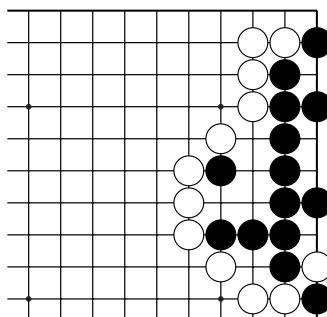
№13



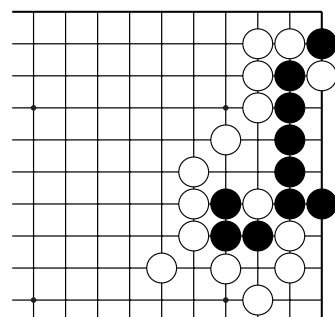
№14



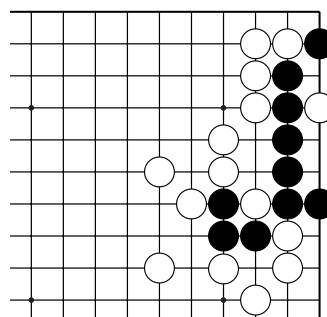
№15



№16



№17

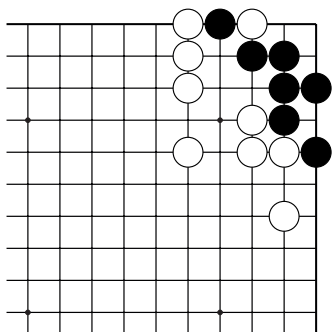


№18

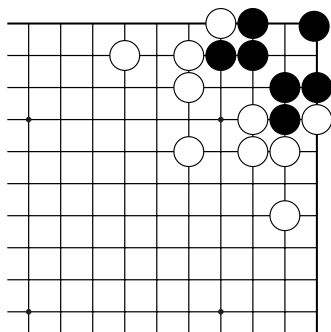
Жизнь и смерть групп

Ход чёрных. Как выжить?

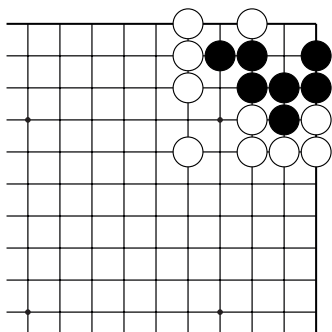
Укажите 1 ход.



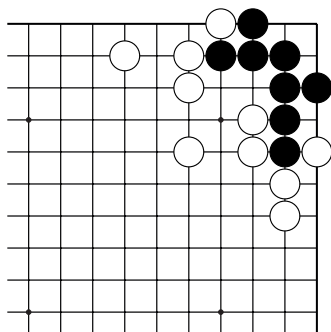
№19



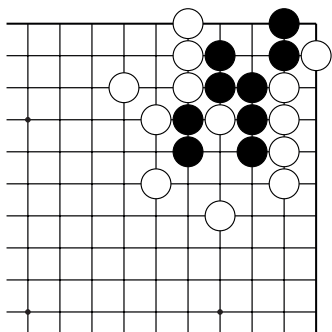
№20



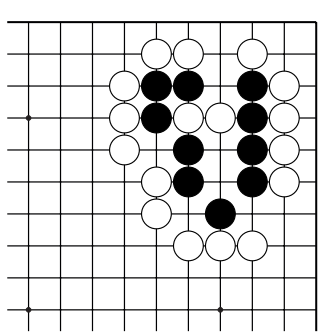
№21



№22



№23

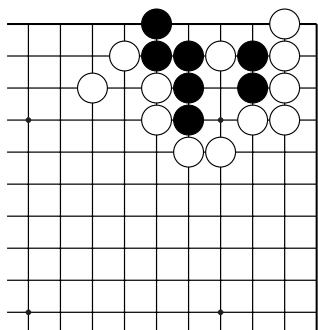


№24

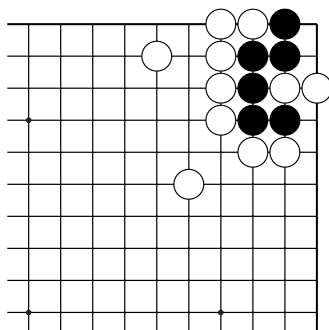
Жизнь и смерть групп

Ход чёрных. Как выжить?

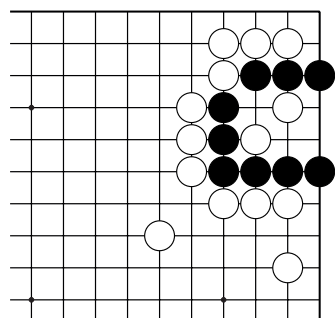
Укажите 1 ход.



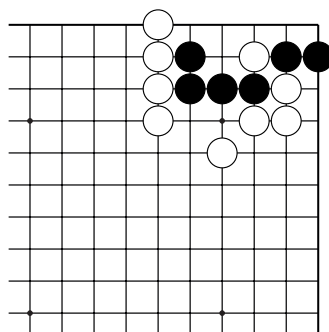
№25



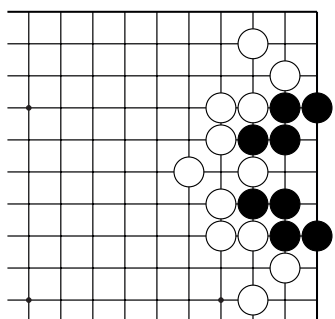
№26



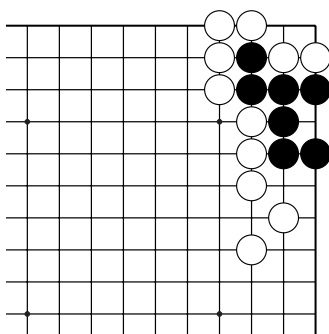
№27



№28



№29

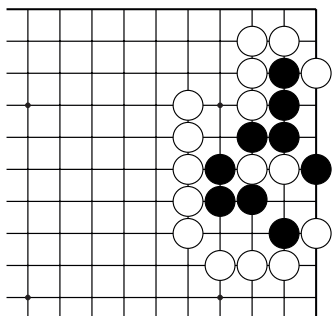


№30

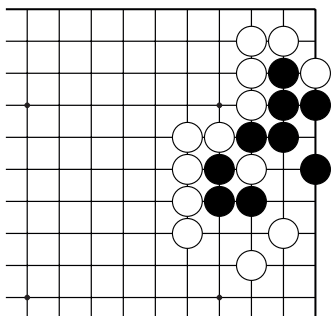
Жизнь и смерть групп

Ход чёрных. Как выжить?

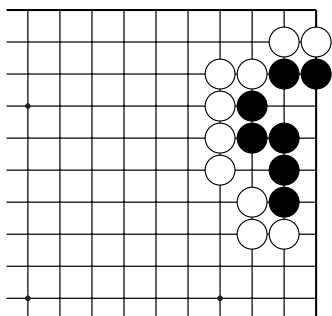
Укажите 1 ход.



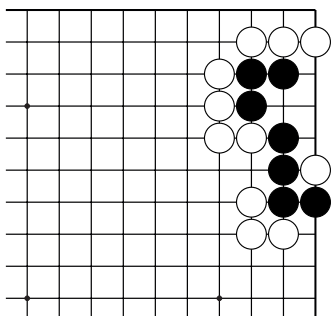
№31



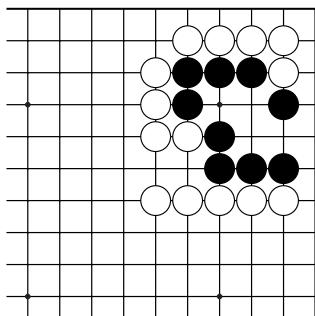
№32



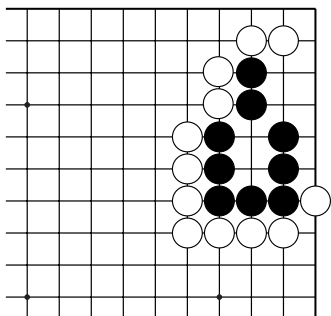
№33



№34



№35

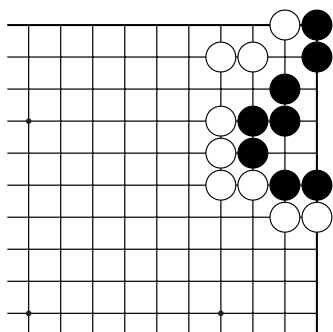


№36

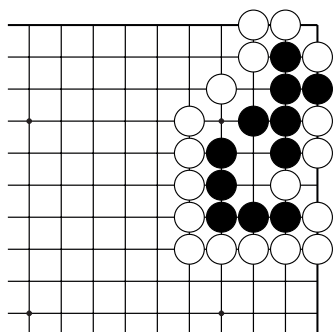
Жизнь и смерть групп

Ход чёрных. Как выжить?

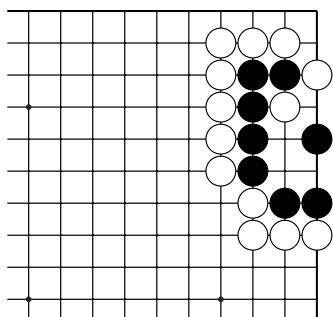
Укажите 1 ход.



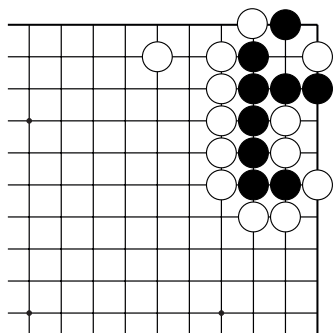
№37



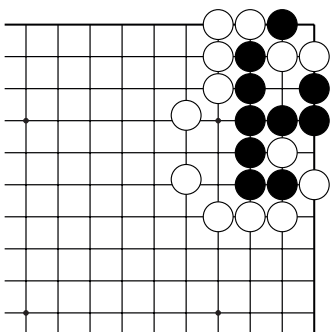
№38



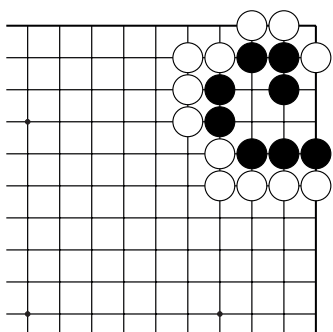
№39



№40



№41

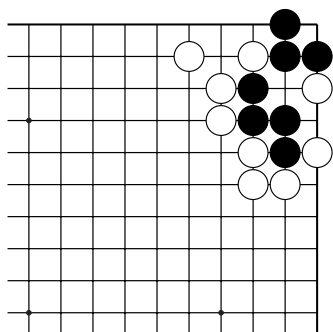


№42

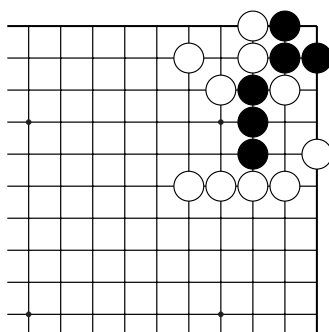
Жизнь и смерть групп

Ход чёрных. Как выжить?

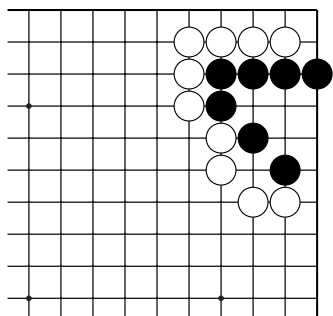
Укажите 1 ход.



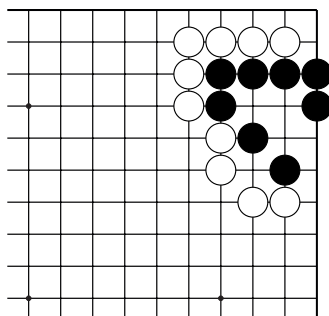
№43



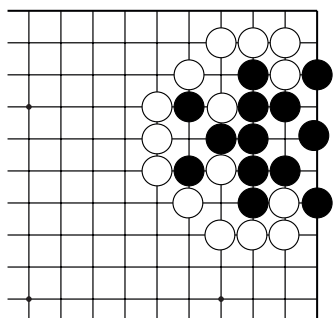
№44



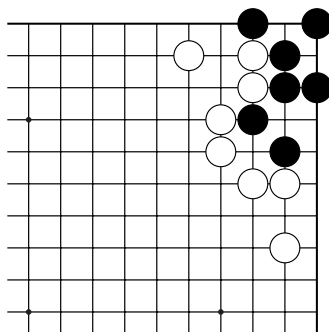
№45



№46



№47

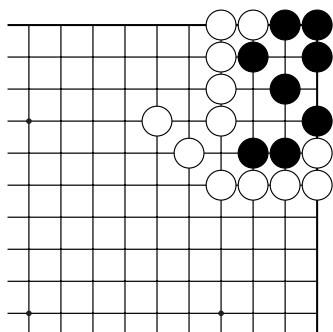


№48

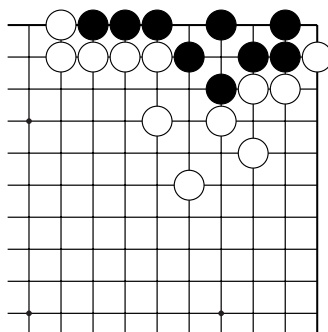
Жизнь и смерть групп

Ход чёрных. Как выжить?

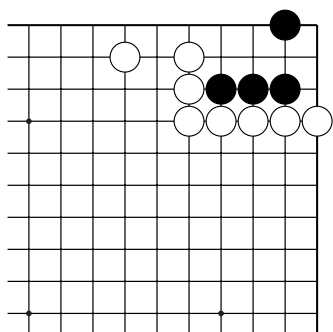
Укажите 1 ход.



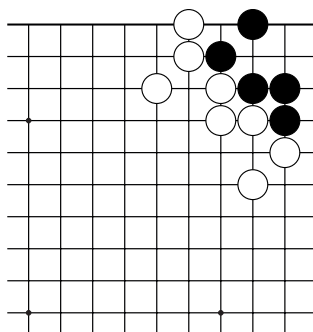
№49



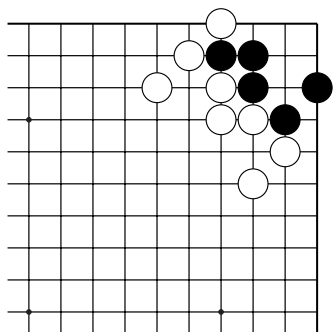
№50



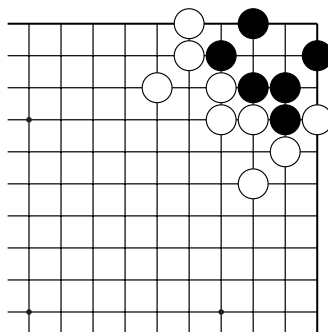
№51



№52



№53

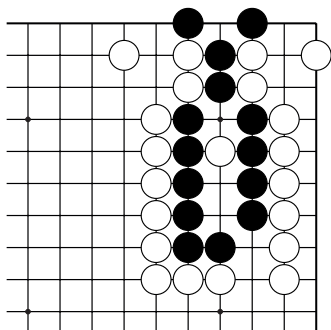


№54

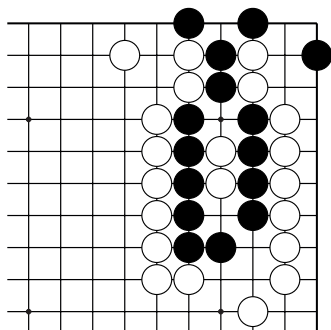
Жизнь и смерть групп

Ход чёрных. Как выжить?

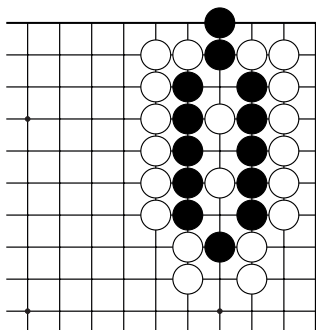
Укажите 1 ход.



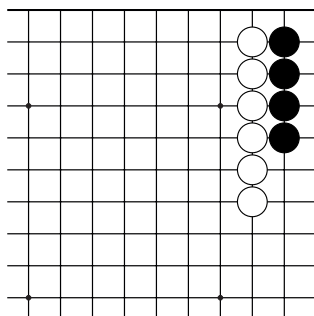
№55



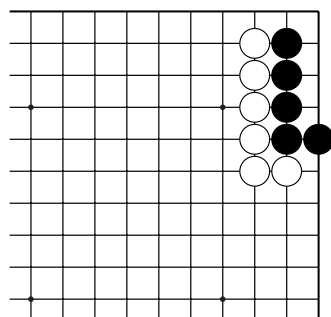
№56



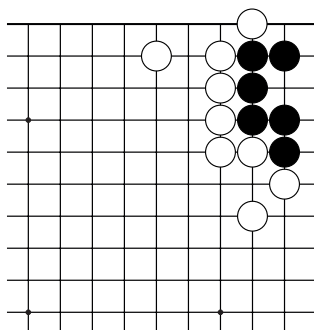
№57



№58



№59

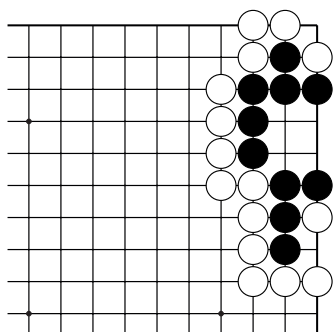


№60

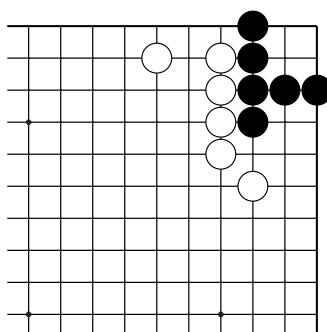
Жизнь и смерть групп

Ход чёрных. Как выжить?

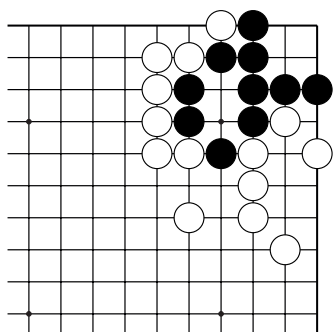
Укажите 1 ход.



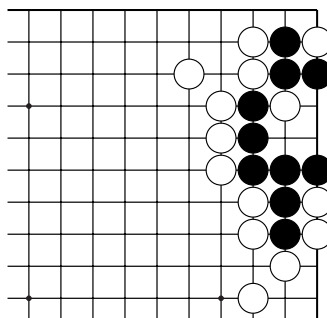
№61



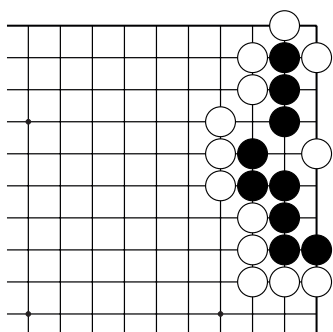
№62



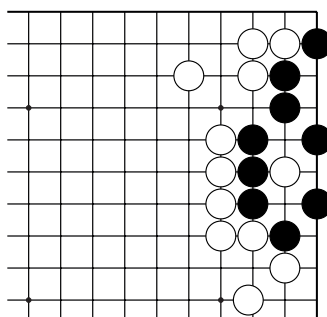
№63



№64



№65

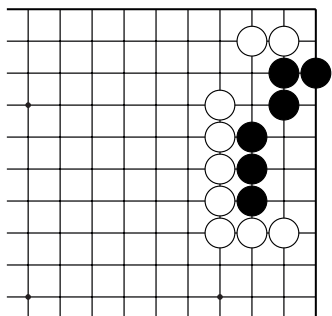


№66

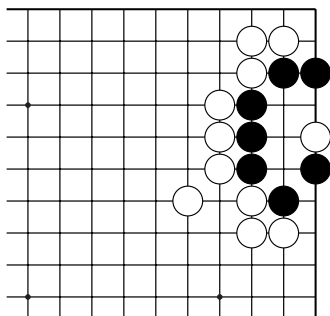
Жизнь и смерть групп

Ход чёрных. Как выжить?

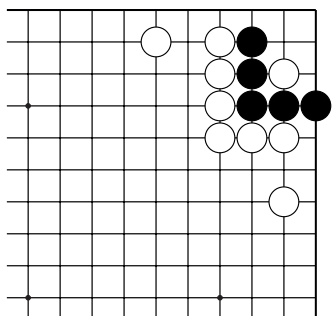
Укажите 1 ход.



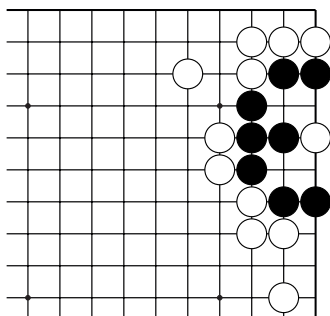
№67



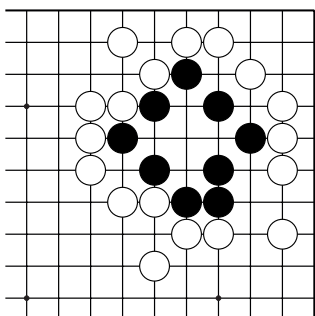
№68



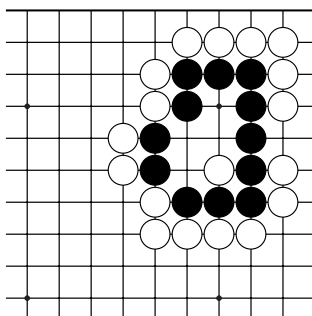
№69



№70



№71

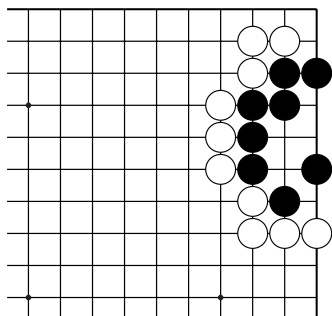


№72

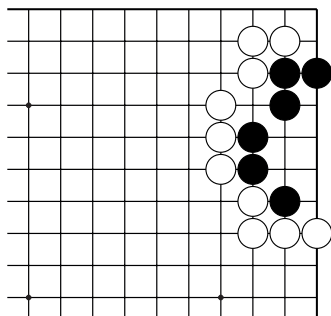
Жизнь и смерть групп

Ход чёрных. Как выжить?

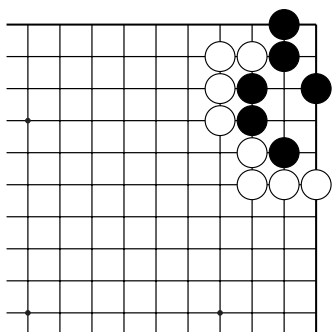
Укажите 1 ход.



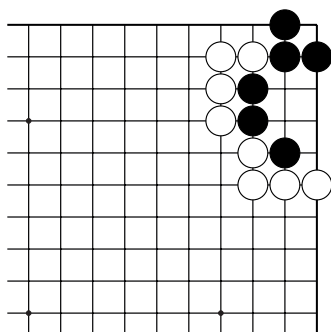
№73



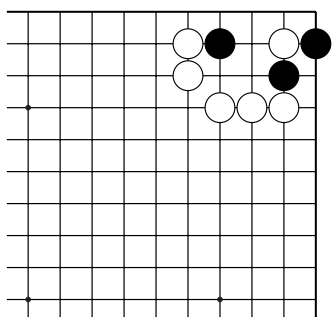
№74



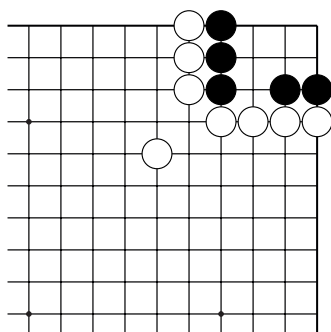
№75



№76



№77

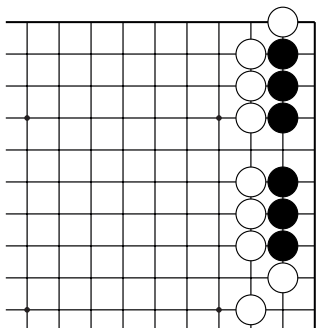


№78

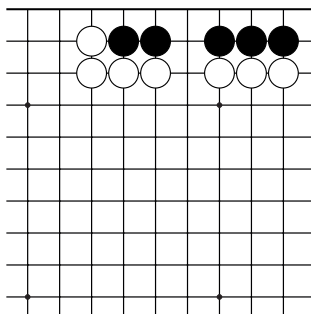
Жизнь и смерть групп

Ход чёрных. Как выжить?

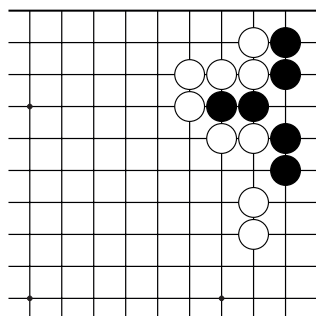
Укажите 1 ход.



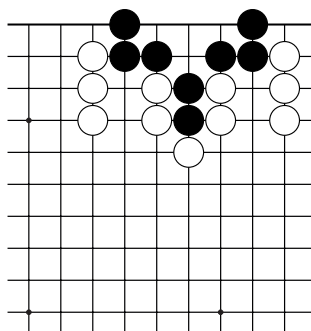
№79



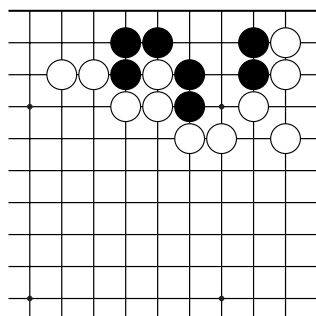
№80



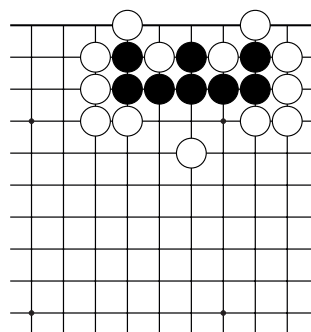
№81



№82



№83

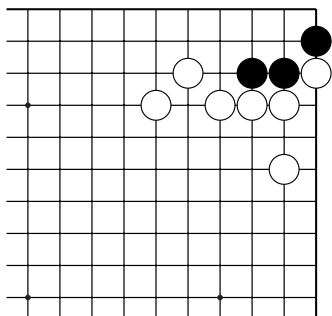


№84

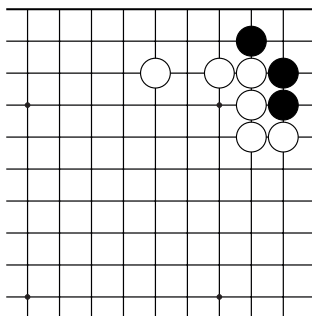
Жизнь и смерть групп

Ход чёрных. Как выжить?

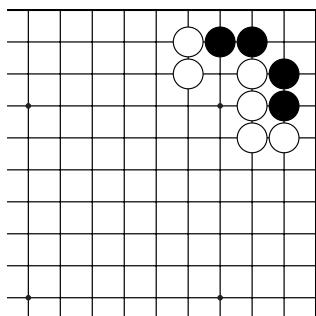
Укажите 1 ход.



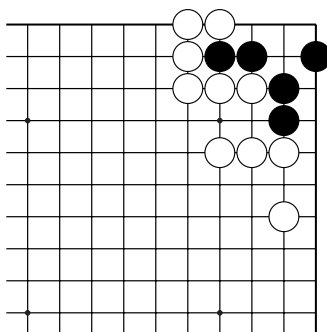
№85



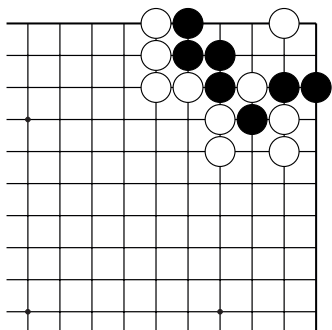
№86



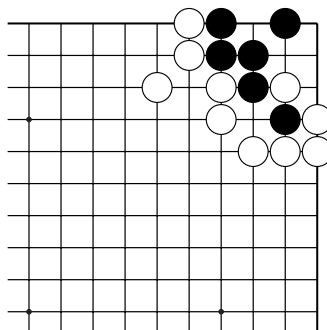
№87



№88



№89

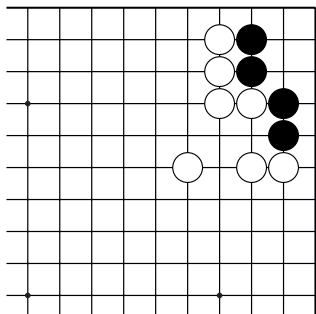


№90

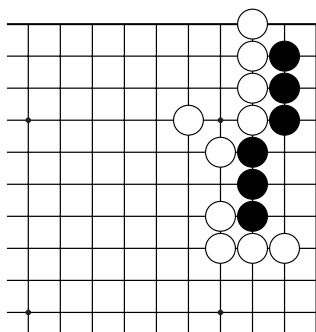
Жизнь и смерть групп

Ход чёрных. Как выжить?

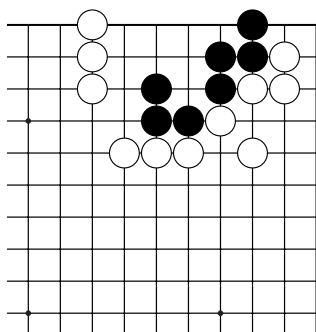
Укажите 1 ход.



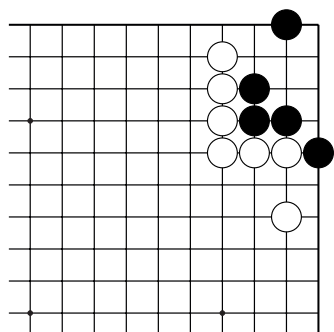
№97



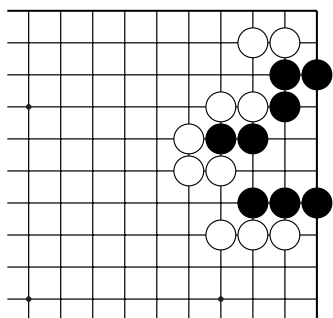
№98



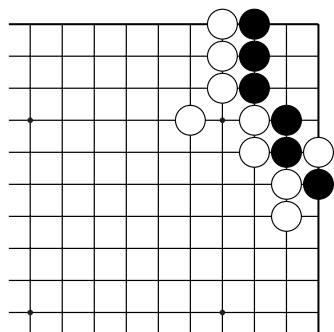
№99



№100



№101

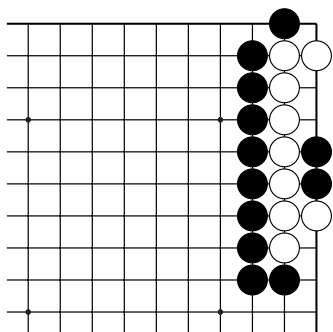


№102

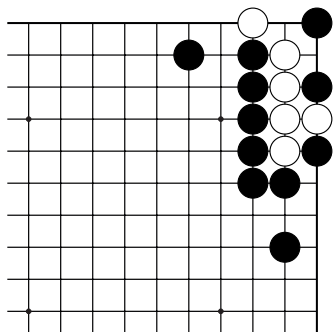
Жизнь и смерть групп

Ход чёрных. Как убить группу белых?

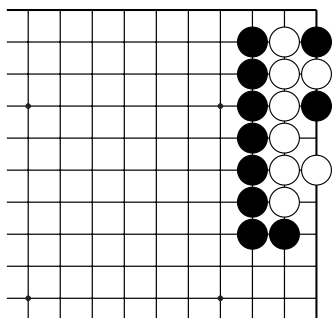
Укажите 1 ход.



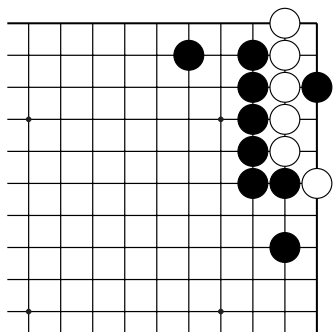
№103



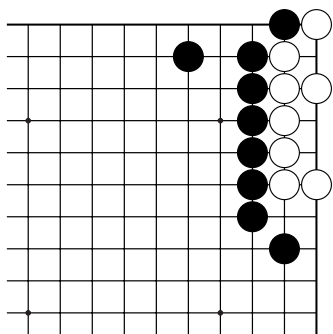
№104



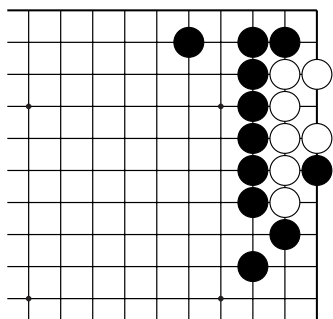
№105



№106



№107

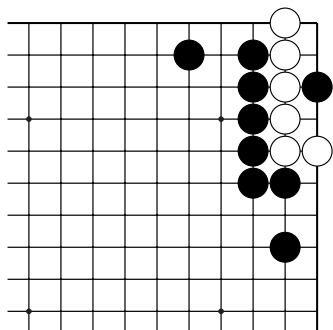


№108

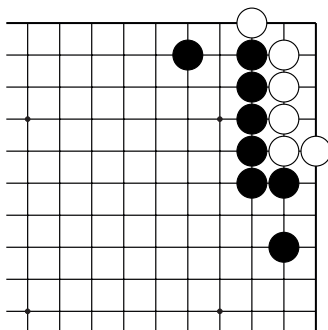
Жизнь и смерть групп

Ход чёрных. Как убить группу белых?

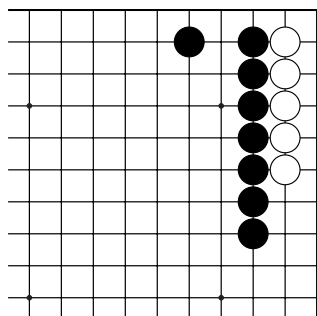
Укажите 1 ход.



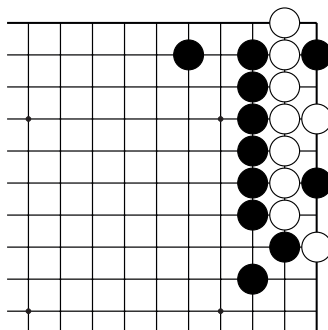
№109



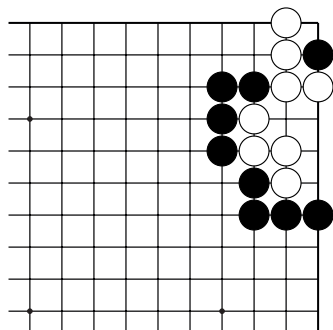
№110



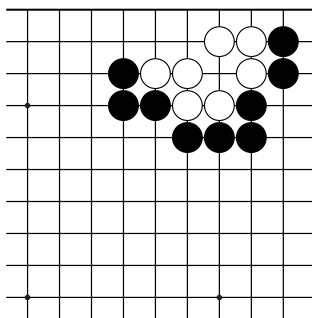
№111



№112



№113

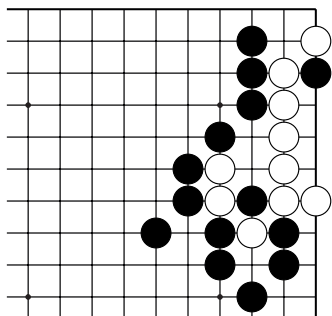


№114

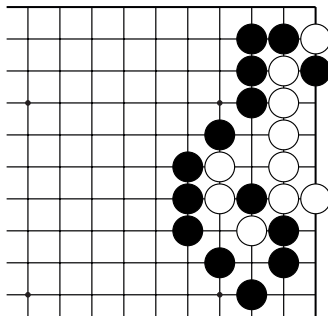
Жизнь и смерть групп

Ход чёрных. Как убить группу белых?

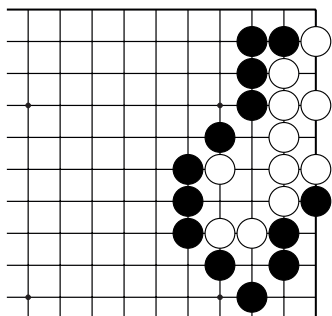
Укажите 1 ход.



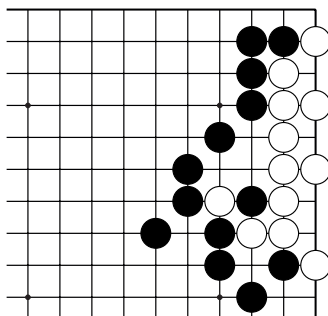
№121



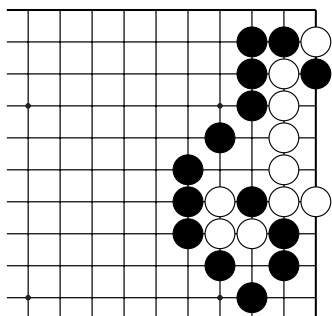
№122



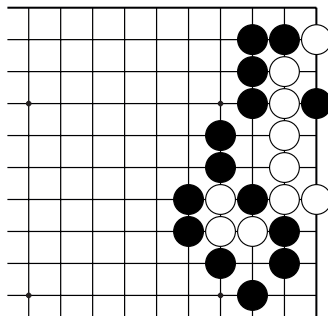
№123



№124



№125

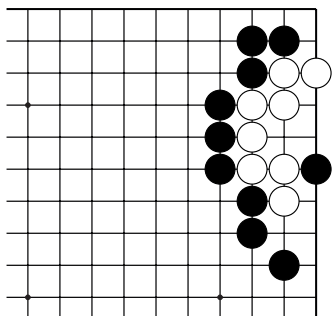


№126

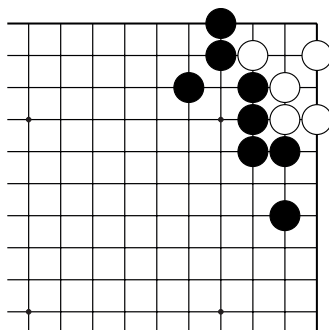
Жизнь и смерть групп

Ход чёрных. Как убить группу белых?

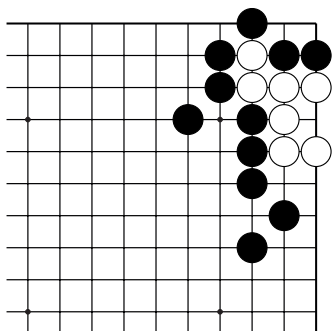
Укажите 1 ход.



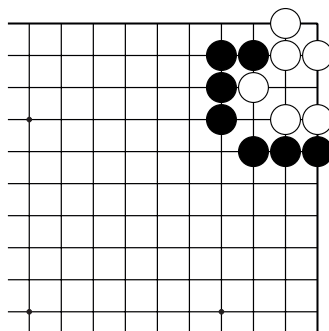
№127



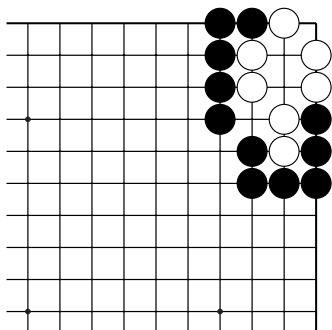
№128



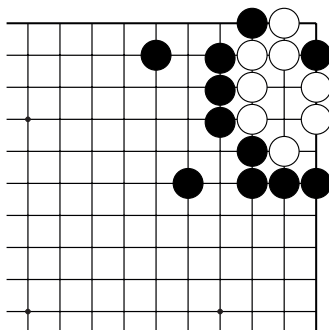
№129



№130



№131

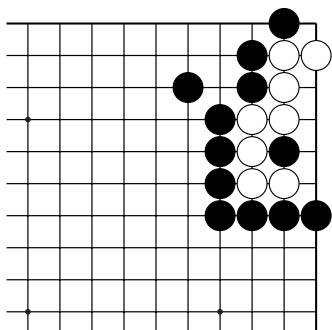


№132

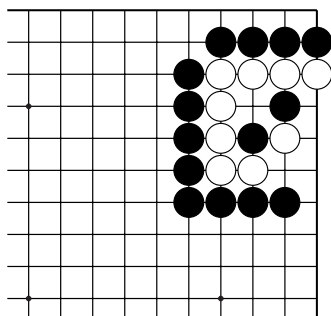
Жизнь и смерть групп

Ход чёрных. Как убить группу белых?

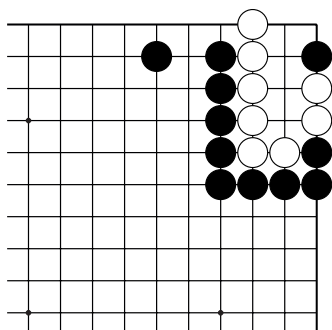
Укажите 1 ход.



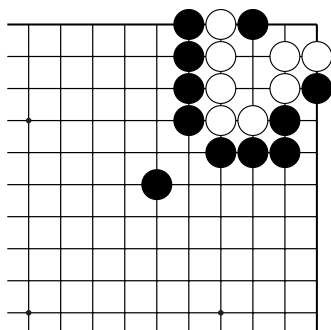
№133



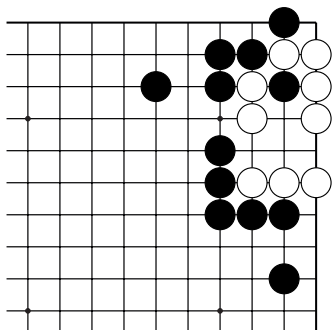
№134



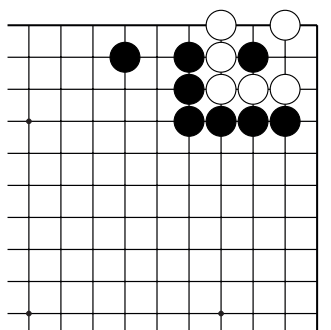
№135



№136



№137

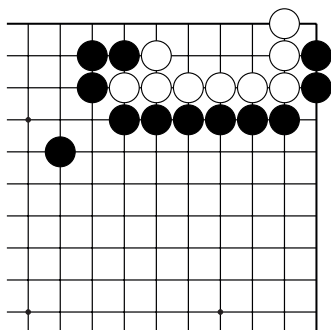


№138

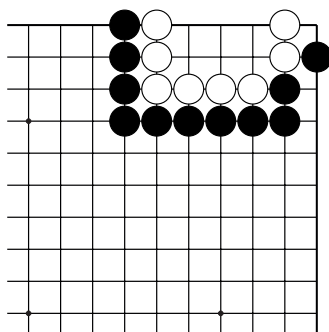
Жизнь и смерть групп

Ход чёрных. Как убить группу белых?

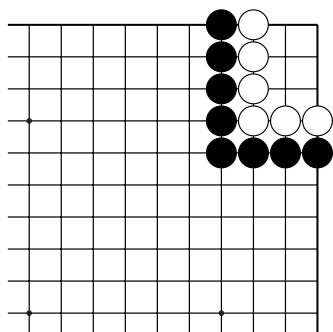
Укажите 1 ход.



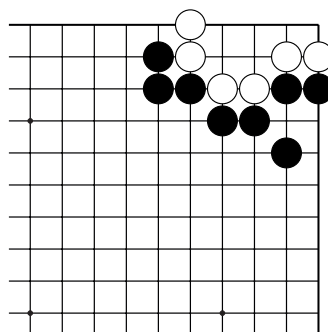
№139



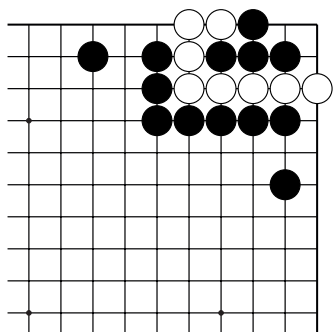
№140



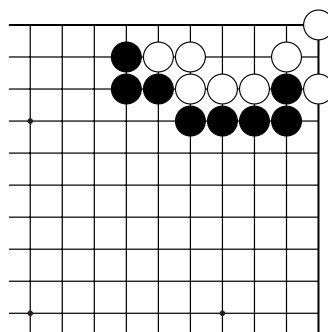
№141



№142



№143

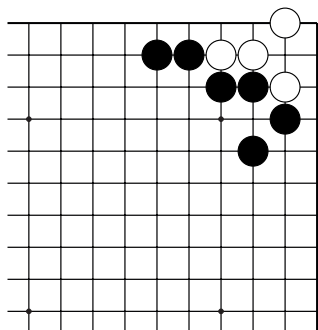


№144

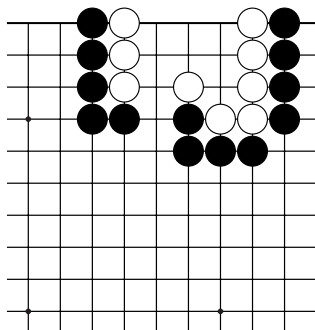
Жизнь и смерть групп

Ход чёрных. Как убить группу белых?

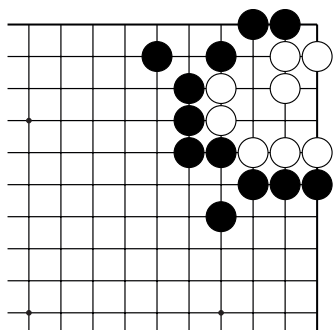
Укажите 1 ход.



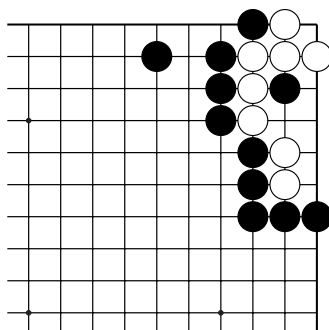
№145



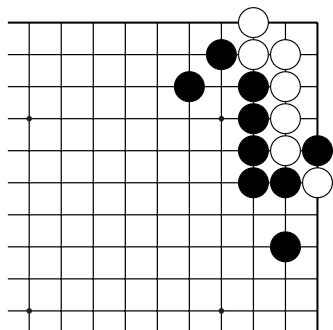
№146



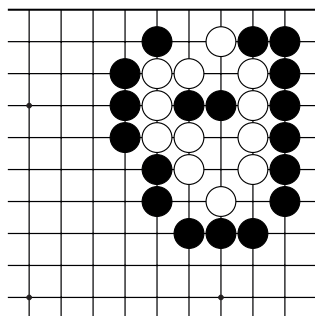
№147



№148



№149

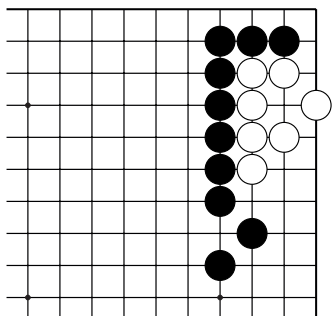


№150

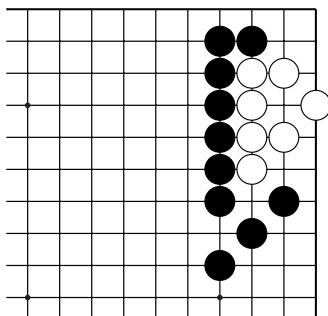
Жизнь и смерть групп

Ход чёрных. Как убить группу белых?

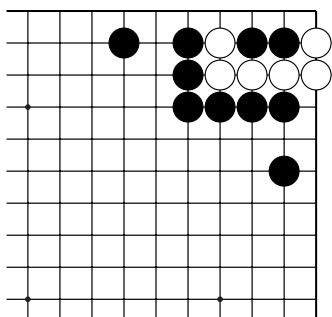
Укажите 1 ход.



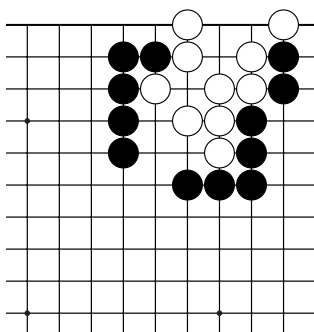
№151



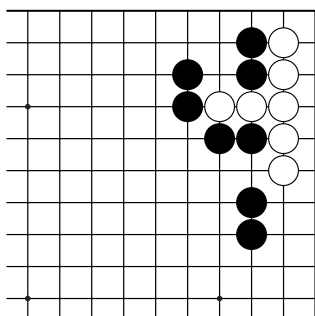
№152



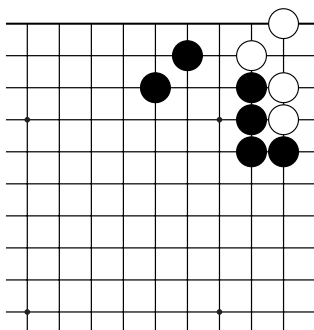
№153



№154



№155

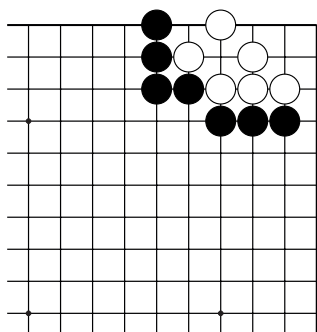


№156

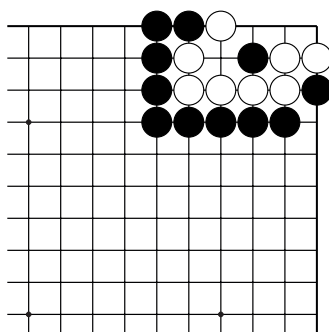
Жизнь и смерть групп

Ход чёрных. Как убить группу белых?

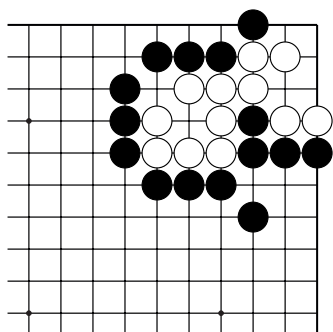
Укажите 1 ход.



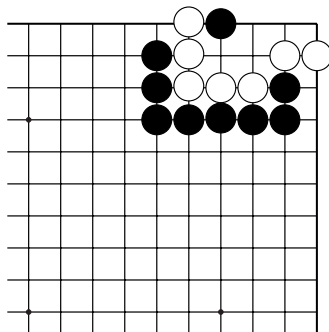
№157



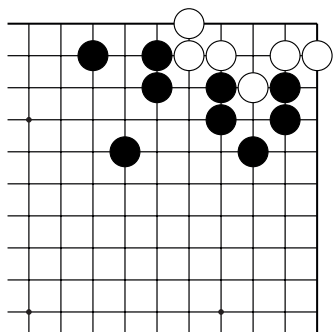
№158



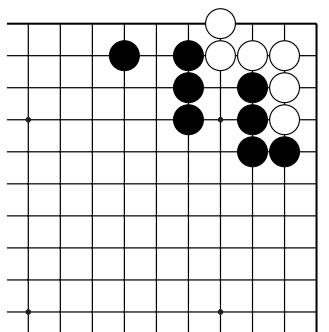
№159



№160



№161

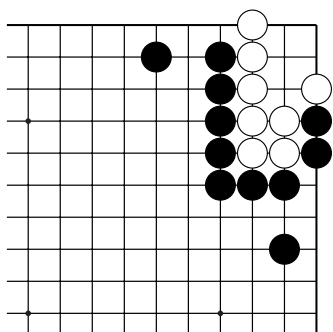


№162

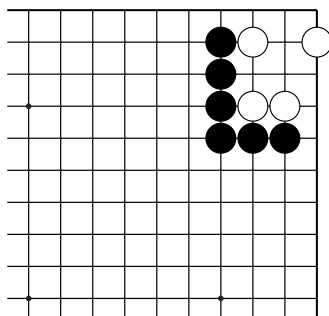
Жизнь и смерть групп

Ход чёрных. Как убить группу белых?

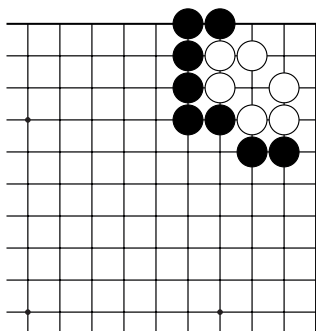
Укажите 1 ход.



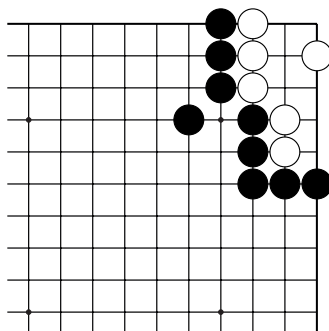
№163



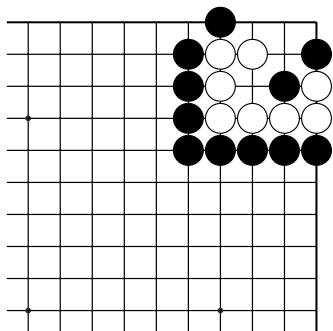
№164



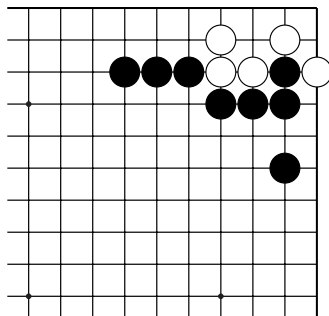
№165



№166



№167

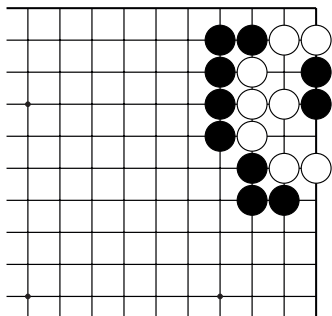


№168

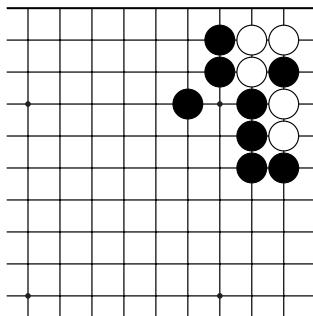
Жизнь и смерть групп

Ход чёрных. Как убить группу белых?

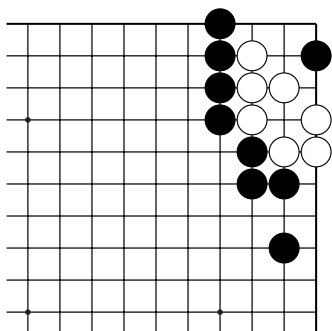
Укажите 1 ход.



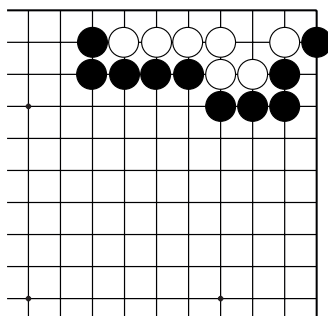
№169



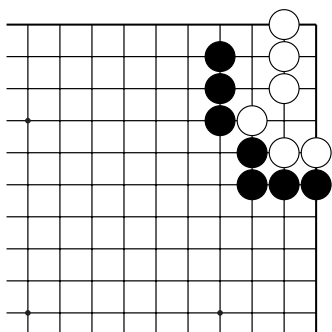
№170



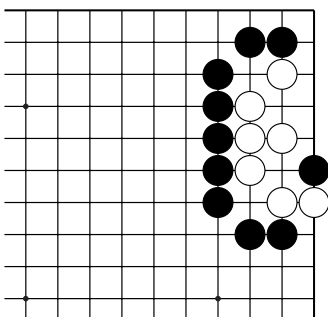
№171



№172



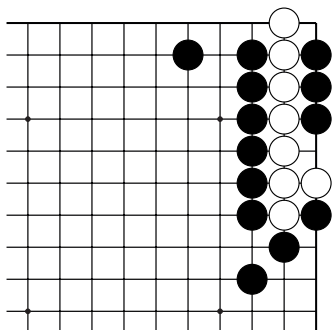
№173



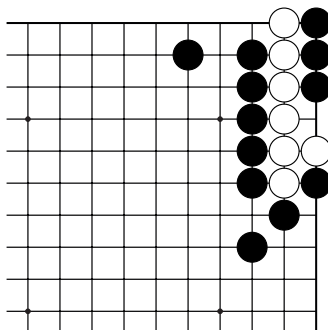
№174

Статус группы

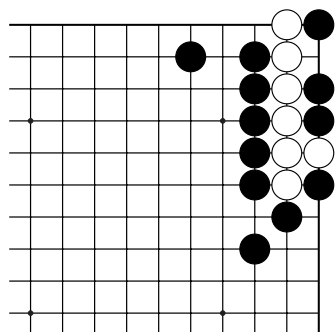
Какой статус группы белых: живая, мёртвая, сэки?



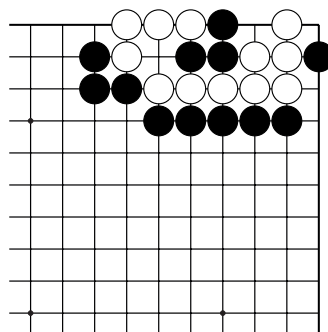
№1



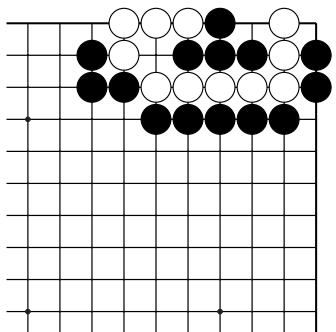
№2



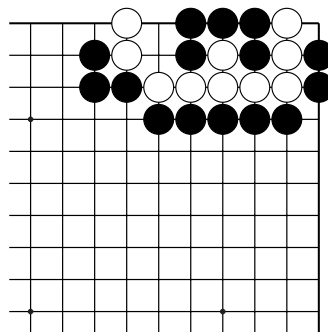
№3



№4



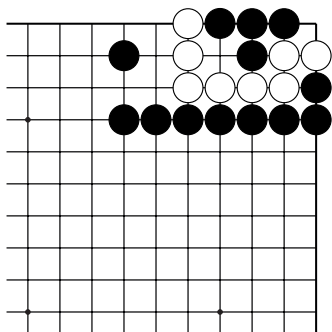
№5



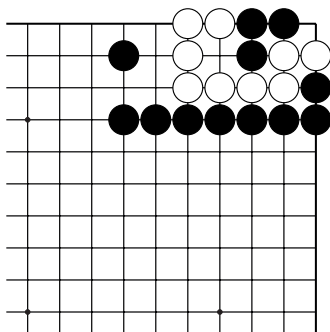
№6

Статус группы

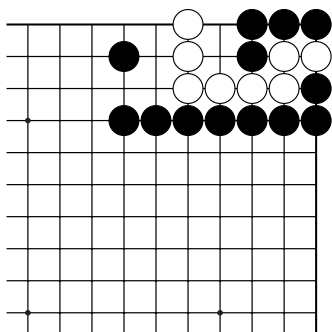
Какой статус группы белых: живая, мёртвая, сэки?



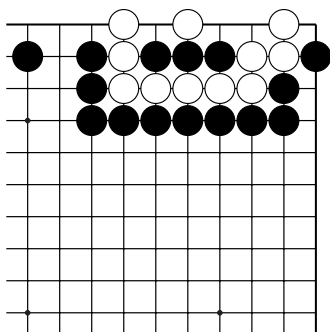
№7



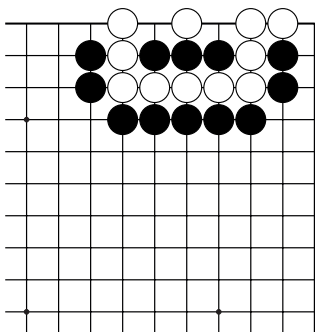
№8



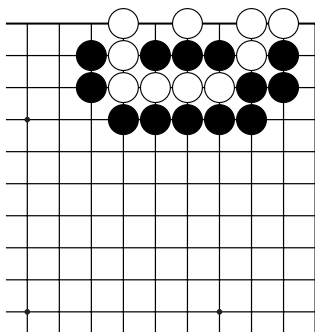
№9



№10



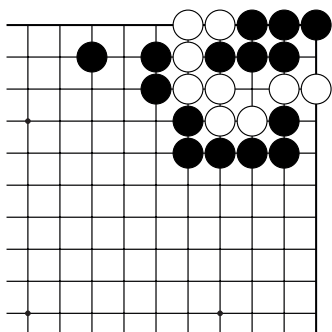
№11



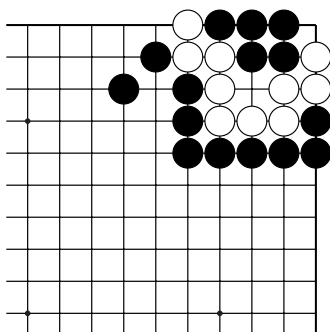
№12

Статус группы

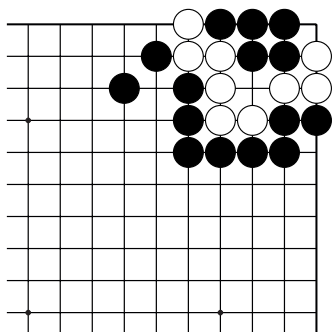
Какой статус группы белых: живая, мёртвая, сэки?



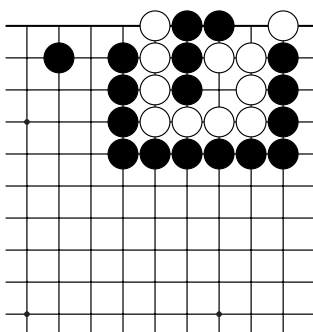
№13



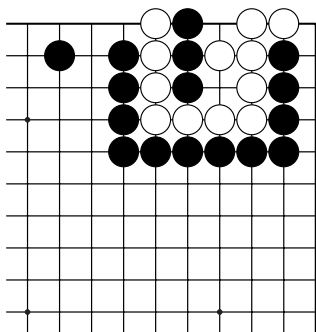
№14



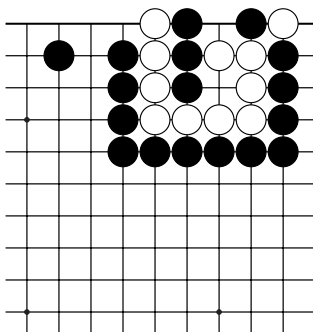
№15



№16



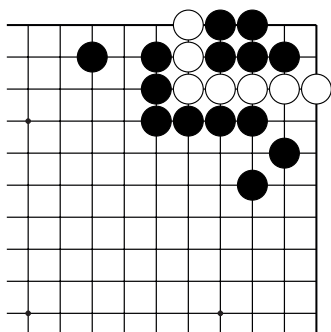
№17



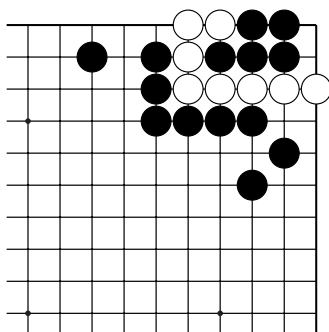
№18

Статус группы

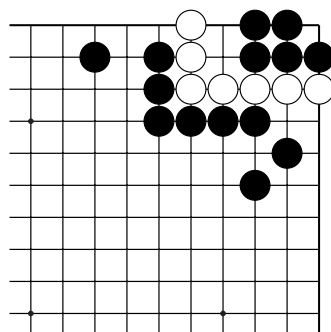
Какой статус группы белых: живая, мёртвая, сэки?



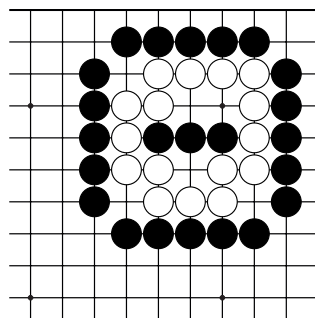
№19



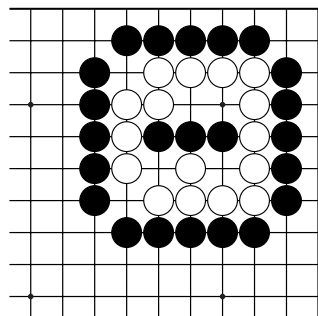
№20



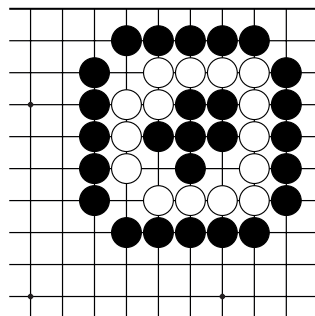
№21



№22



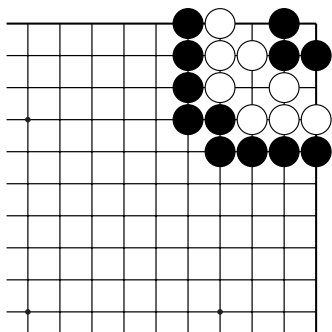
№23



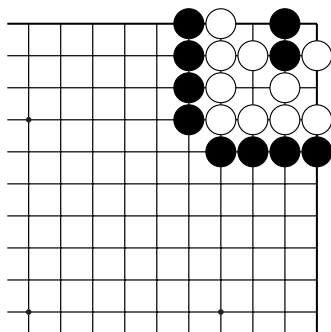
№24

Статус группы

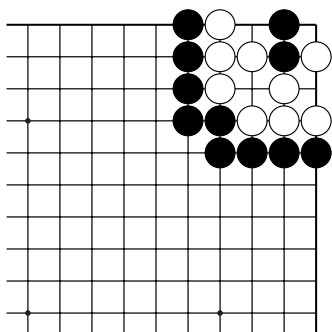
Какой статус группы белых: живая, мёртвая, сэки?



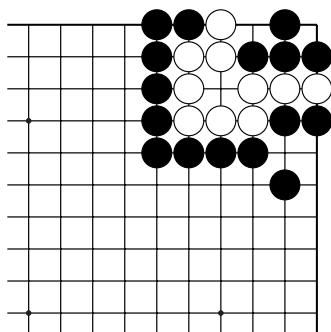
№25



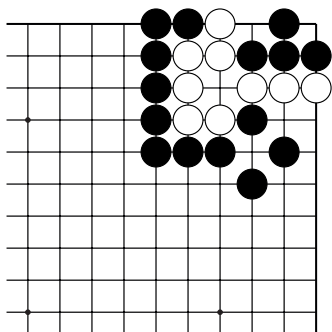
№26



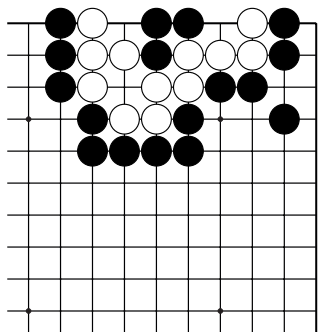
№27



№28



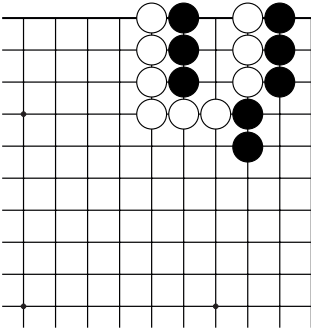
№29



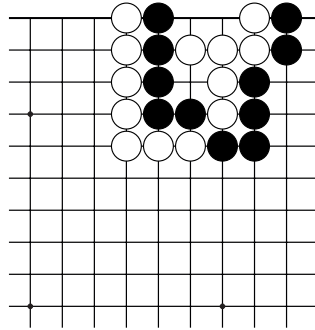
№30

Сэки

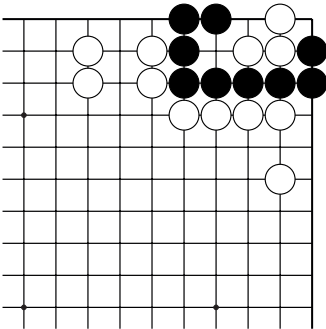
После какого хода чёрных создаётся ситуация сэки?



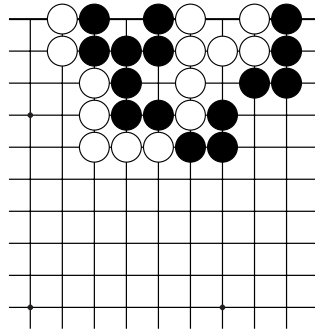
№1



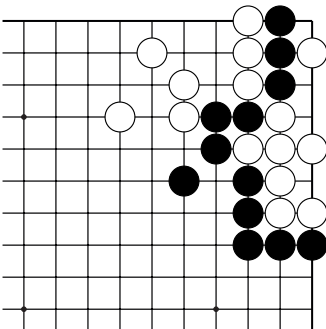
№2



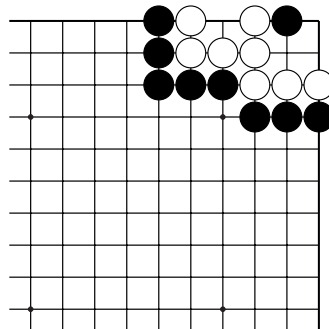
№3



№4



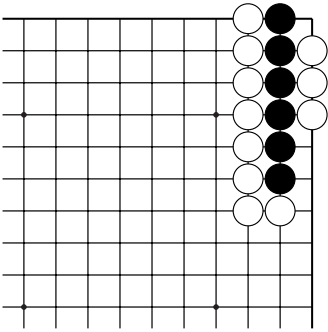
№5



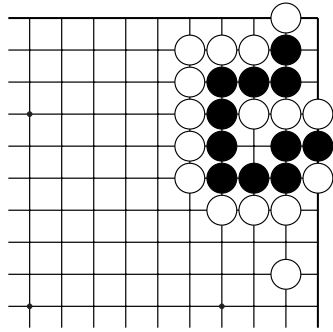
№6

Сэки

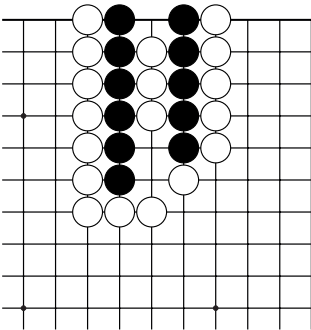
После какого хода чёрных создаётся ситуация сэки?



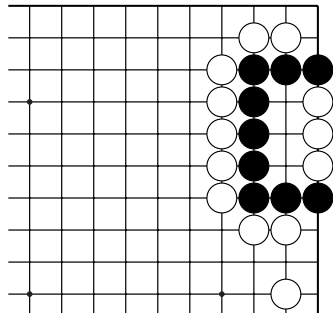
№7



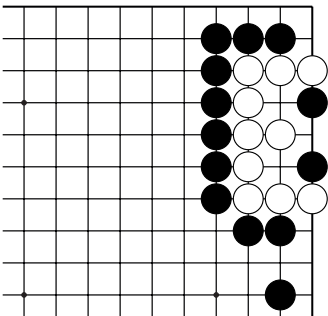
№8



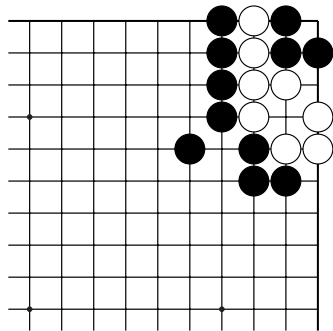
№9



№10



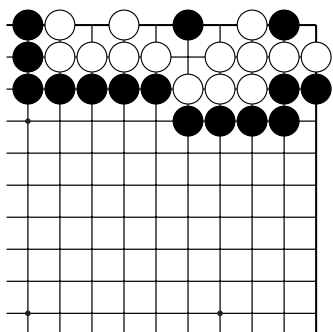
№11



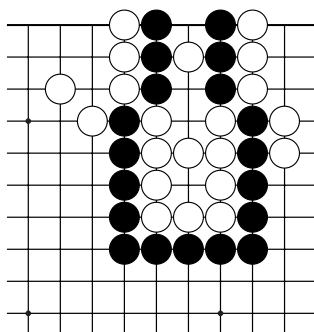
№12

Сэки

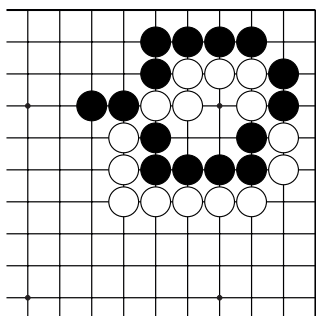
После какого хода чёрных создаётся ситуация сэки?



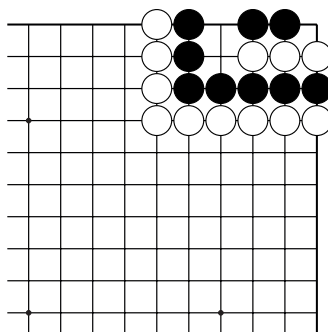
№13



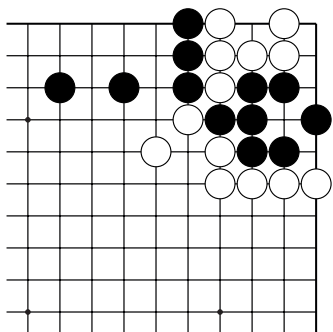
№14



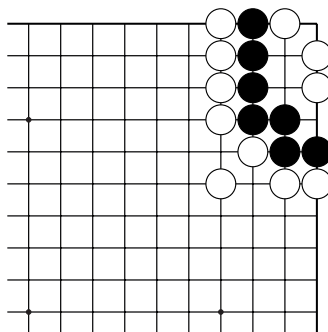
№15



№16



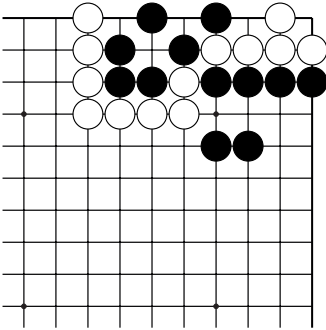
№17



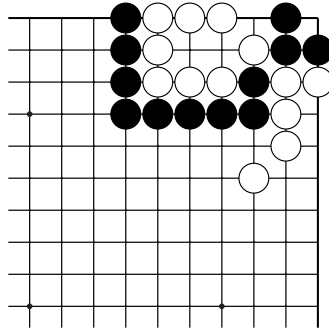
№18

Сэки

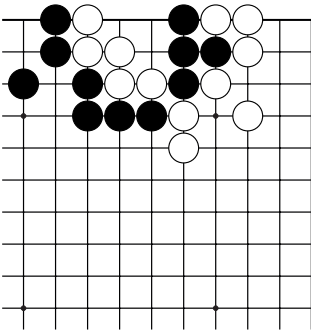
После какого хода чёрных создаётся ситуация сэки?



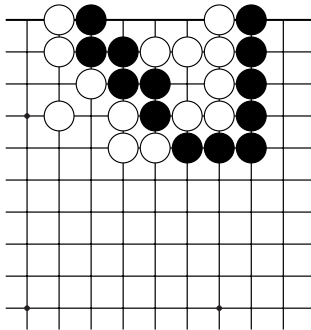
№19



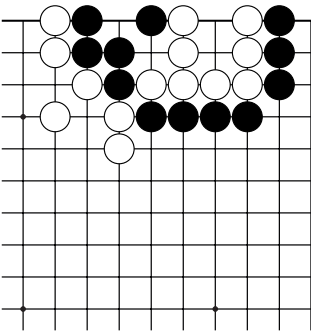
№20



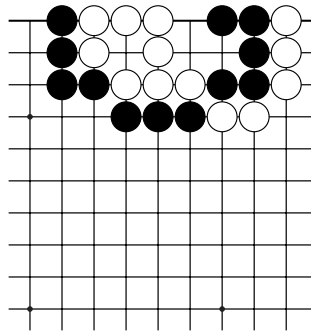
№21



№22



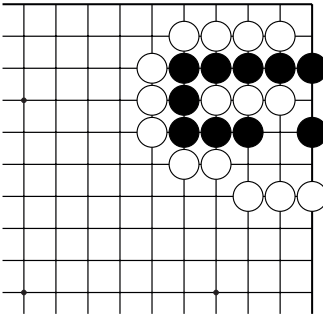
№23



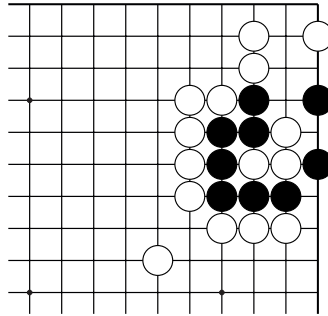
№24

Сэки

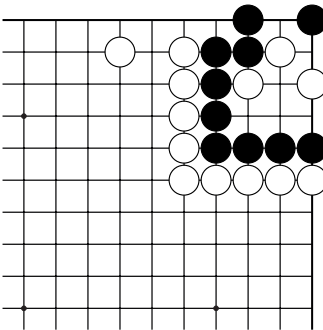
Ход чёрных. Как построить сэки?



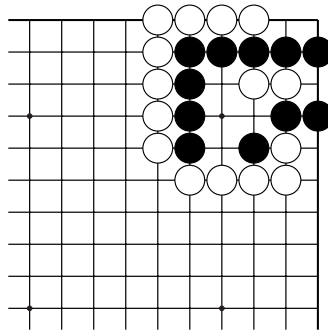
№25



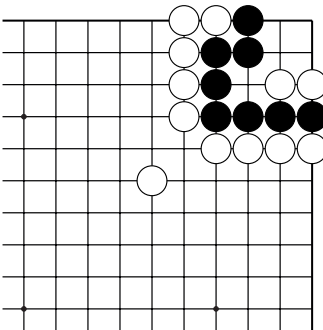
№26



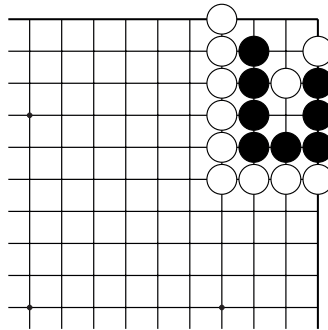
№27



№28



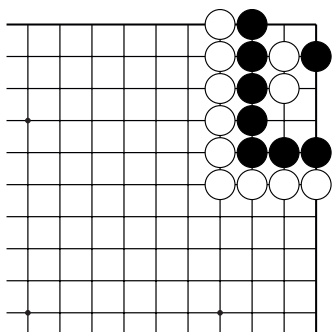
№29



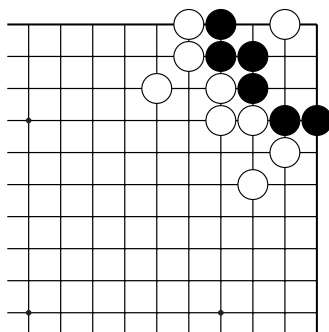
№30

Сэки

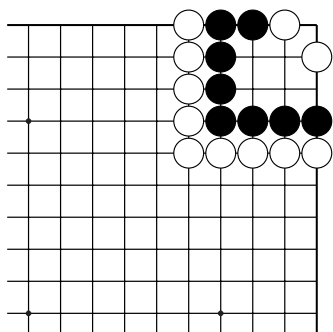
Ход чёрных. Как построить сэки?



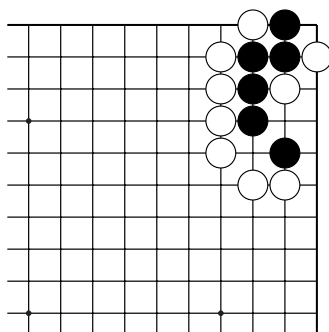
№31



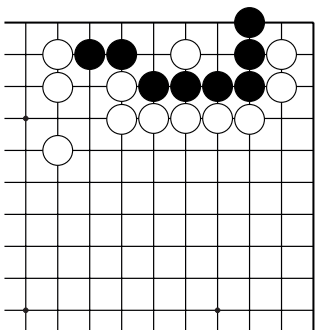
№32



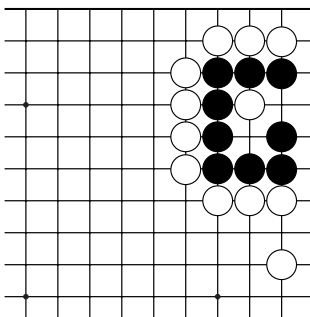
№33



№34



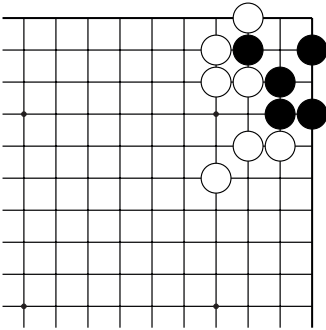
№35



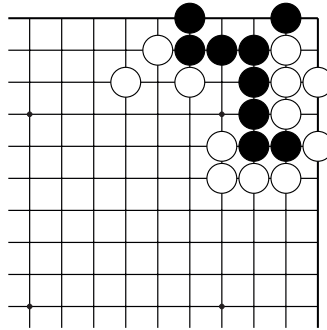
№36

Ко-борьба

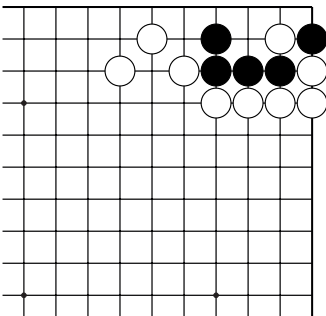
После какого хода чёрных начинается ко-борьба?



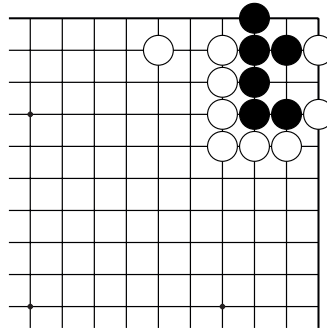
№1



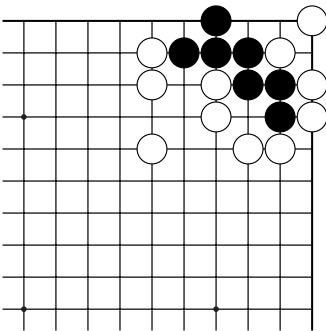
№2



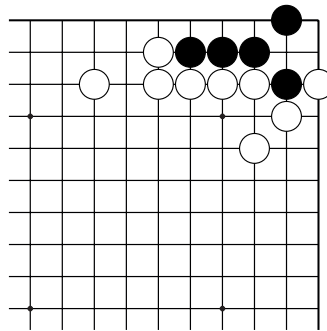
№3



№4



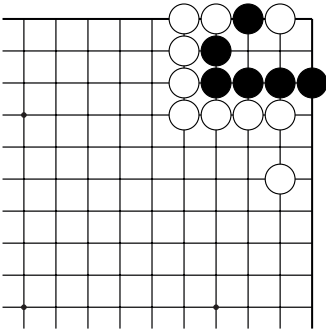
№5



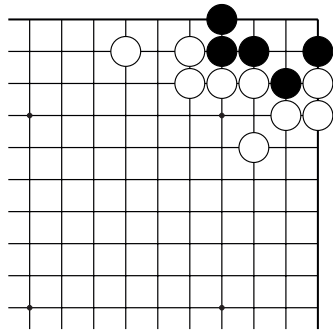
№6

Ко-борьба

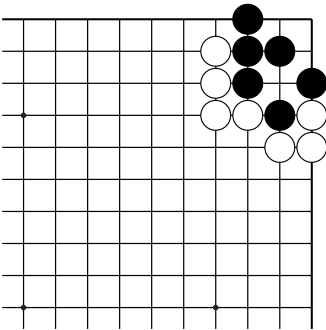
После какого хода чёрных начинается ко-борьба?



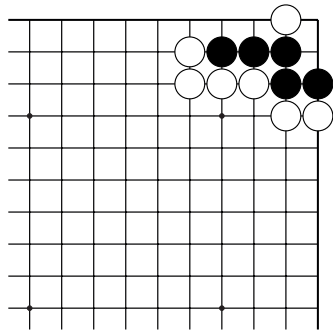
№7



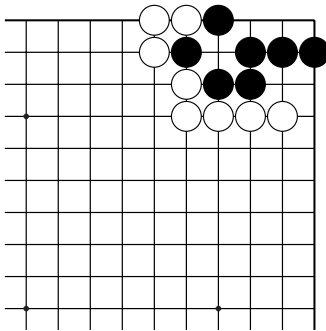
№8



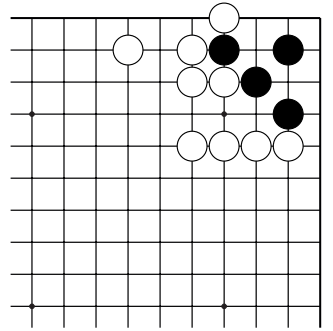
№9



№10



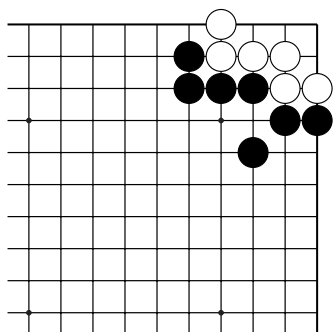
№11



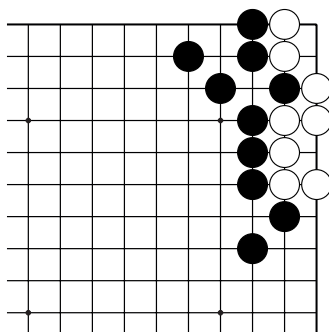
№12

Ко-борьба

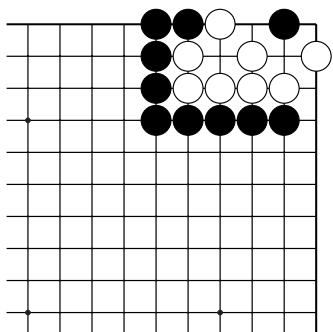
После какого хода чёрных начинается ко-борьба?



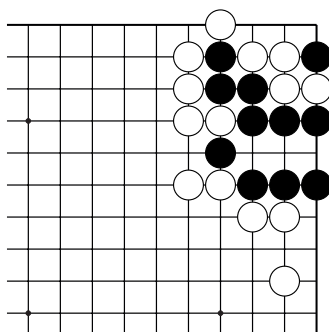
№13



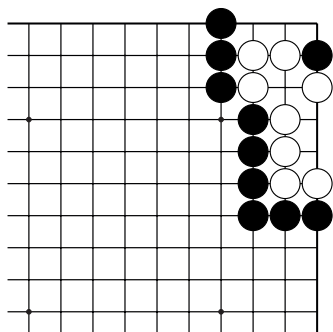
№14



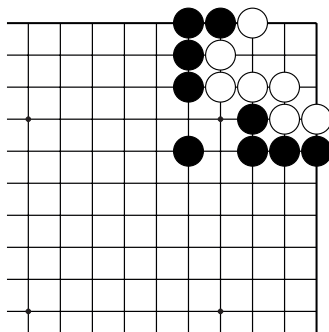
№15



№16



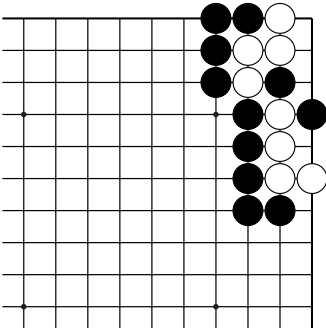
№17



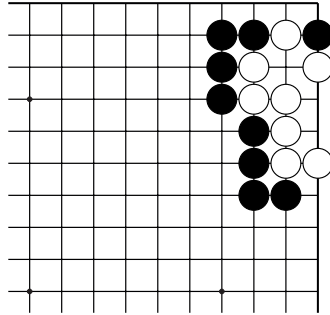
№18

Ко-борьба

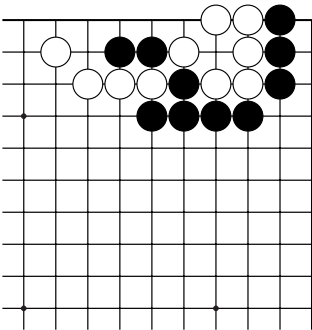
После какого хода чёрных начинается ко-борьба?



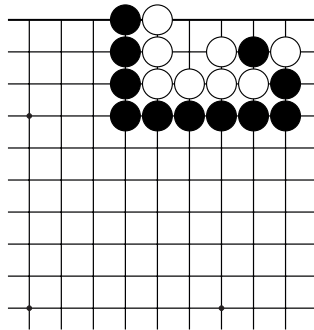
№19. 1 ход.



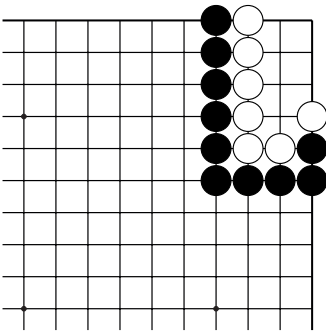
№20. 1 ход.



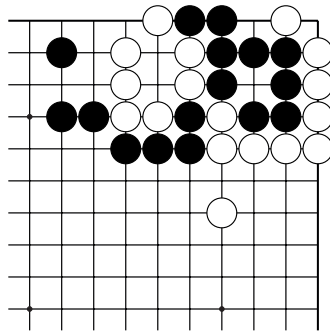
№21. 3 хода.



№22. 3 хода.



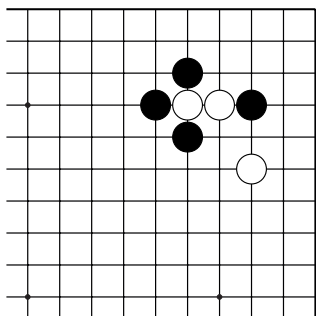
№23. 5 ходов.



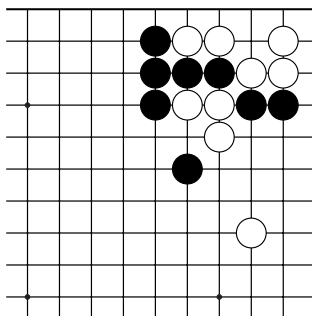
№24. 5 ходов.

Конкурс решения задач

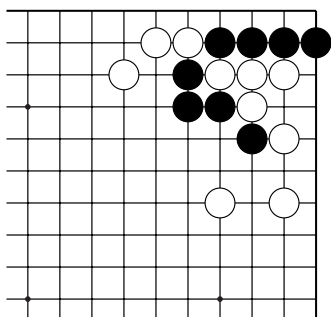
Найдите правильное решение, используя изученные приёмы.



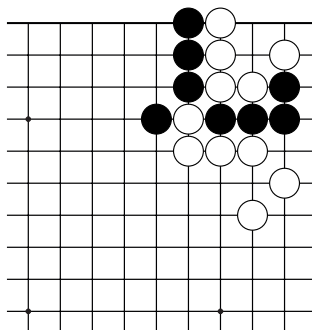
№1 "Лесенка". 3 хода.



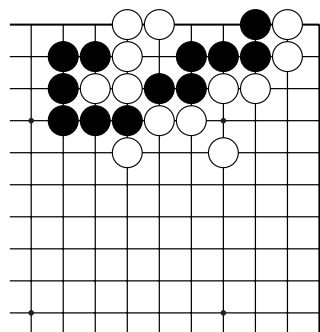
№2 "Хомутик". 1 ход.



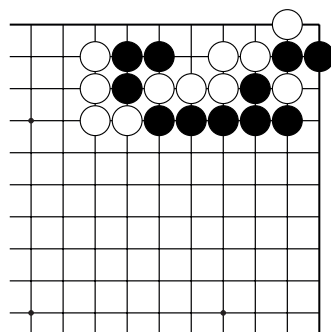
№3 Оиотоси. 3 хода.



№4 "Защёлка". 1 ход.



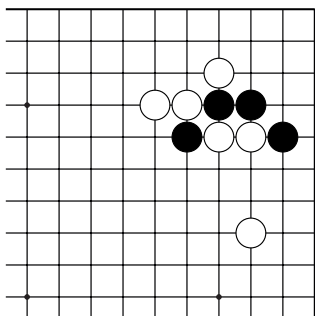
№5. Группа с глазом сильнее группы без глаза!
1 ход.



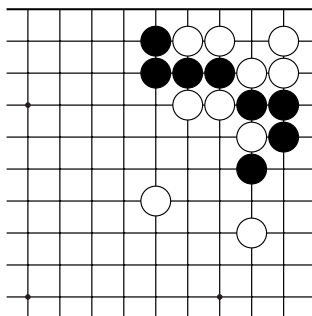
№6 "Полуглаз" на первой линии.
3 хода

Конкурс решения задач

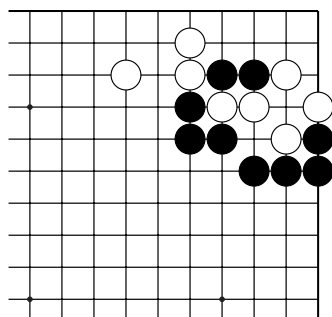
Найдите правильное решение, используя изученные приёмы.



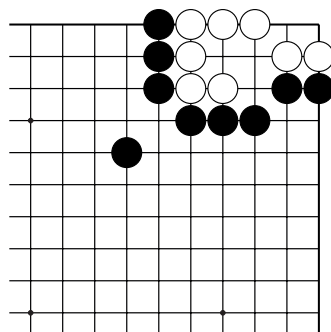
№7 "Лесенка". 5 ходов.



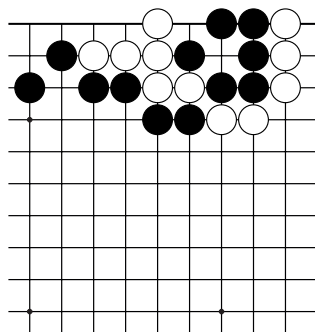
№8 "Хомутик". 1 ход.



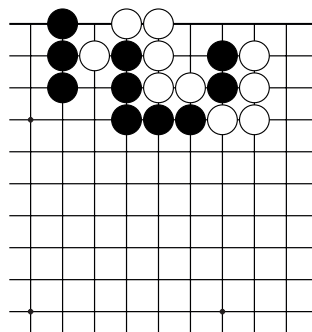
№9 Оиотоси. 3 хода.



№10 "Защёлка". 3 хода.



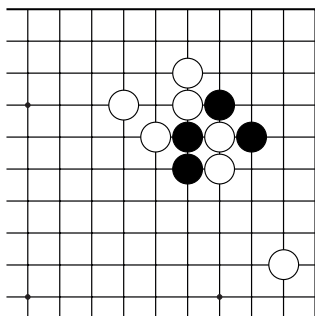
№11. Группа с глазом сильнее группы без глаза!
1 ход.



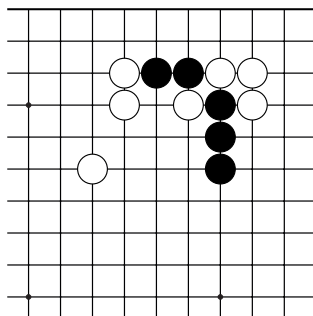
№12. "Полуглаз" на первой линии.
3 хода

Конкурс решения задач

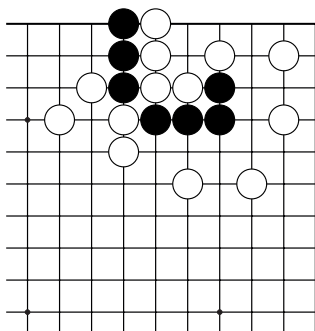
Найдите правильное решение, используя изученные приёмы.



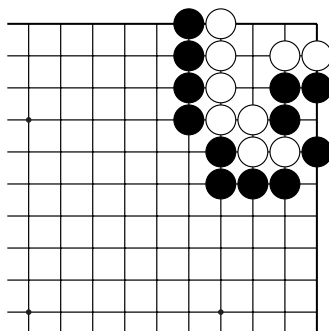
№13 "Лесенка". 7 ходов.



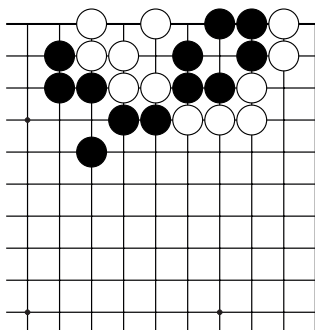
№14 "Хомутик". 3 хода.



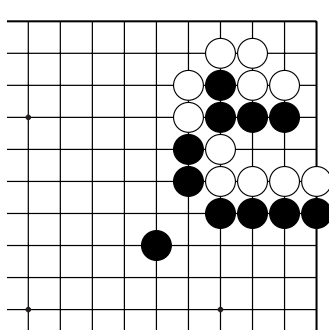
№15 Оиотоси. 3 хода.



№16 "Защёлка". 3 хода.



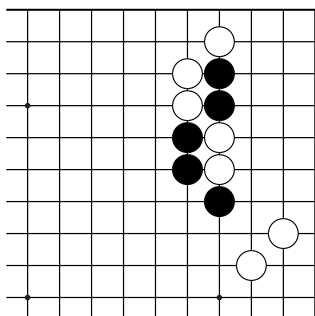
№17. Группа с глазом сильнее группы без глаза!
1 ход.



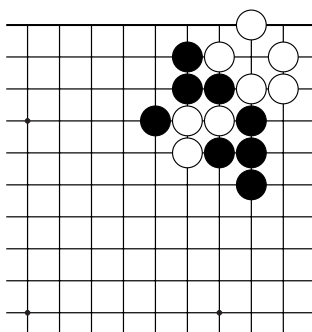
№18 "Полуглаз" на первой линии.
3 хода

Конкурс решения задач

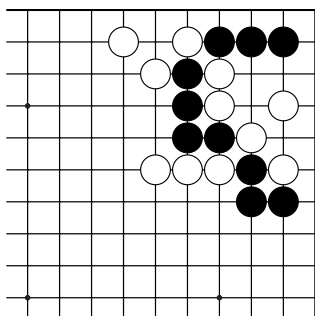
Найдите правильное решение, используя изученные приёмы.



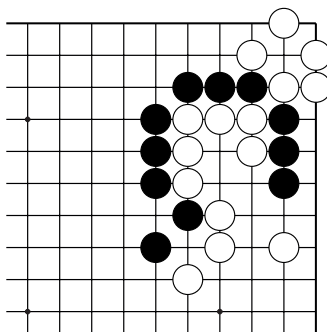
№19 "Лесенка". 7 ходов.



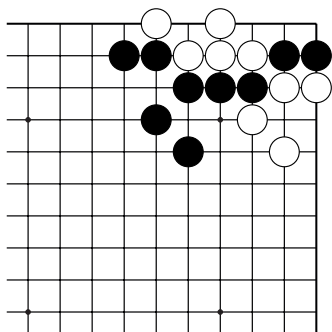
№20 "Хомутик". 1 ход.



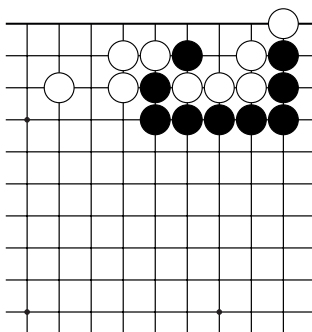
№21 Оиотоси. 5 ходов.



№22 "Защёлка". 3 хода.



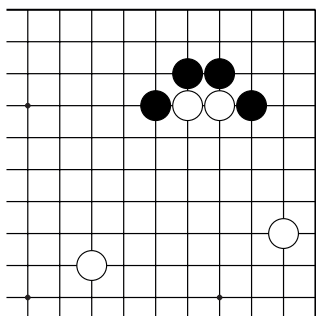
№23. Группа с глазом сильнее группы без глаза!
1 ход.



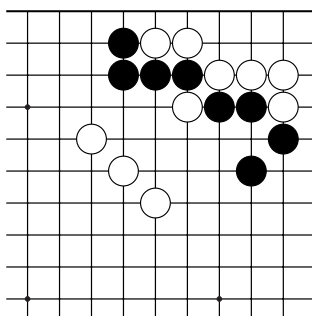
№24 "Полуглаз" на первой линии.
3 хода

Конкурс решения задач

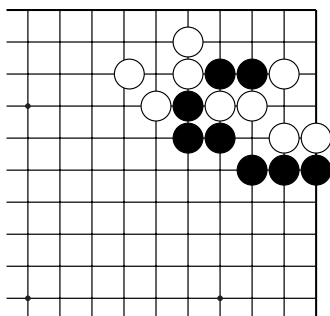
Найдите правильное решение, используя изученные приёмы.



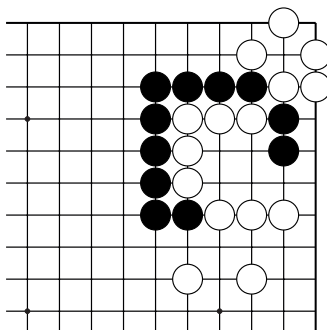
№25 "Лесенка". 9 ходов.



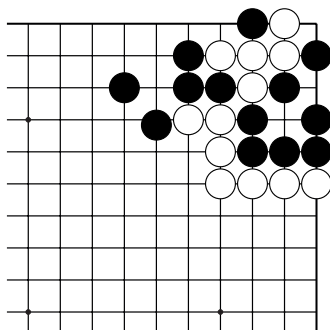
№26 "Хомутик". 1 ход.



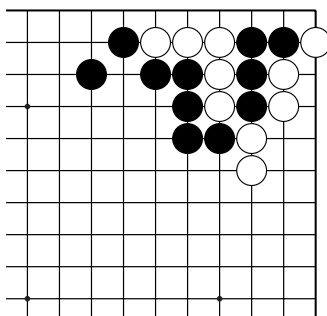
№27 Оиотоси. 3 хода.



№28 "Защёлка". 3 хода.



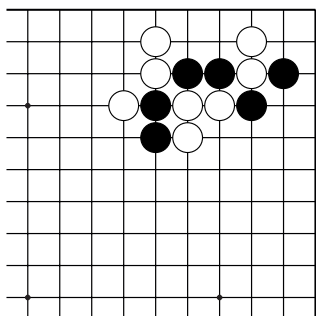
№29. Группа с глазом сильнее группы без глаза!
3 хода.



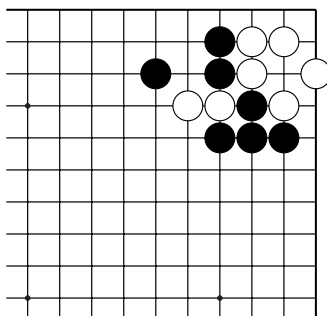
№30 "Полуглаз" на первой линии.
5 ходов

Конкурс решения задач

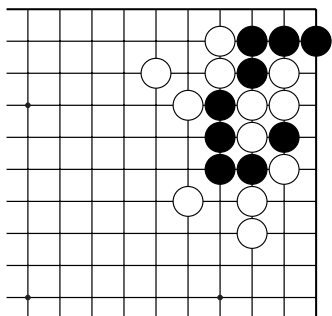
Найдите правильное решение, используя изученные приёмы.



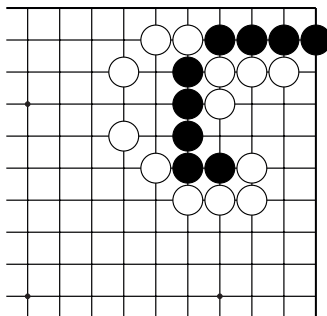
№31 "Лесенка". 3 хода.



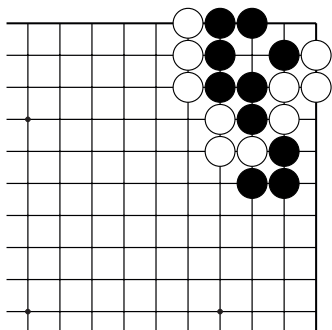
№32 "Хомутик". 1 ход.



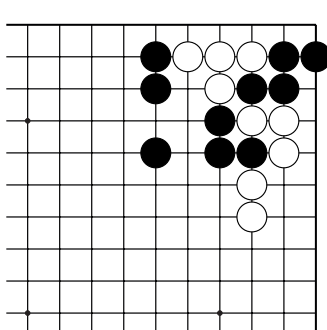
№33 Оиогоси. 3 хода.



№34 "Защёлка". 5 ходов.



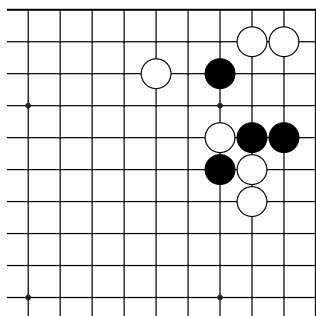
№35. Группа с глазом сильнее группы без глаза!
1 ход.



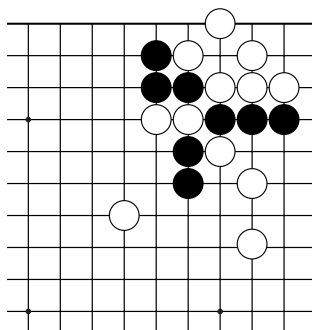
№36 "Полуглаз" на первой линии.
5 ходов

Конкурс решения задач

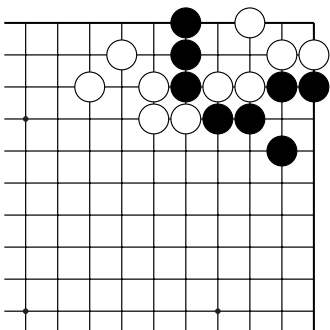
Найдите правильное решение, используя изученные приёмы.



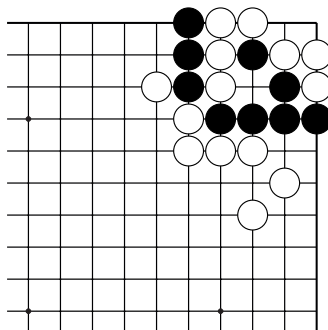
№37 "Лесенка". 7 ходов.



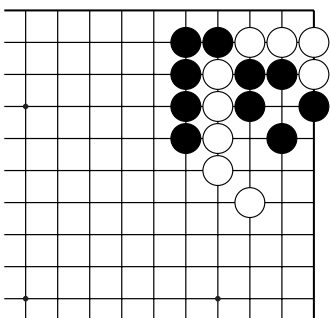
№38 "Хомутик". 3 хода.



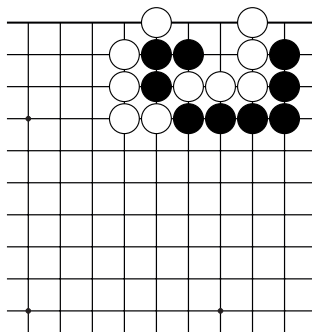
№39 Оиотоси. 5 ходов.



№40 "Защёлка". 1 ход.



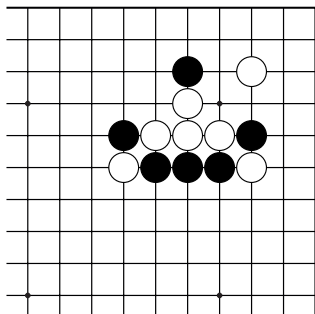
№41. Группа с глазом сильнее группы без глаза!
1 ход.



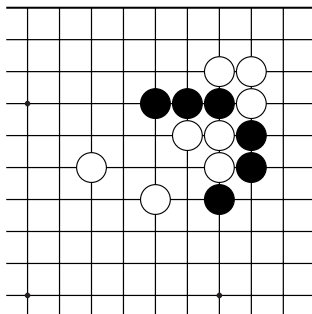
№42 "Полуглаз" на первой линии.
3 хода

Конкурс решения задач

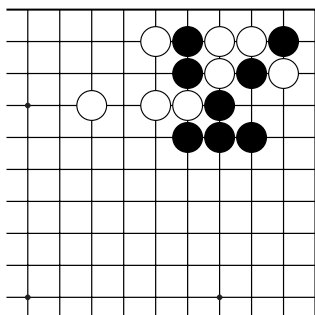
Найдите правильное решение, используя изученные приёмы.



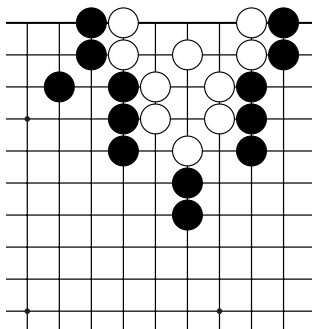
№43 "Лесенка". 5 ходов.



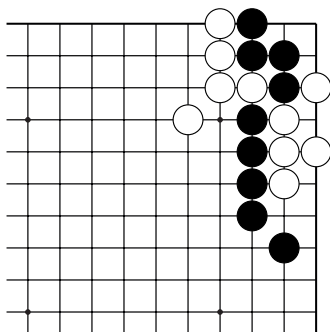
№44 "Хомутик". 1 ход.



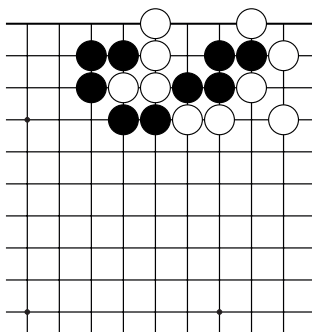
№45 Оиотоси. 5 ходов.



№46 "Защёлка". 3 хода.



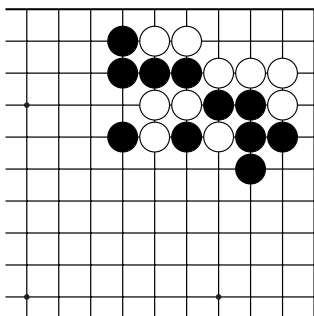
№47. Группа с глазом сильнее группы без глаза!
3 хода.



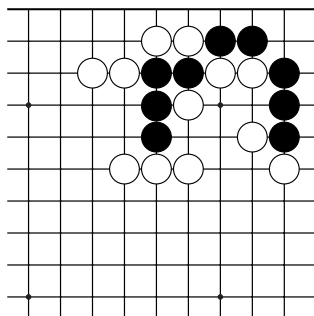
№48 "Полуглаз" на первой линии.
3 хода

Конкурс решения задач

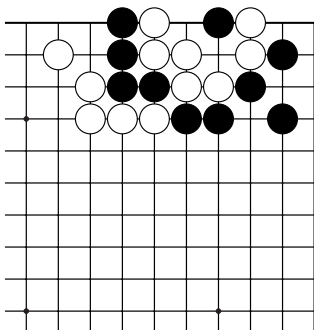
Найдите правильное решение, используя изученные приёмы.



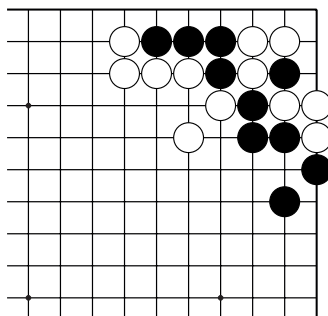
№49 "Лесенка". 5 ходов.



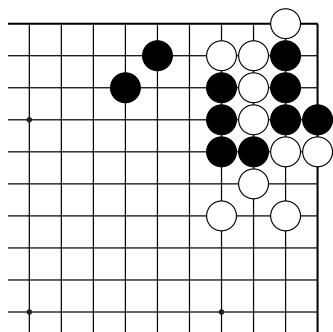
№50 "Хомутик". 1 ход.



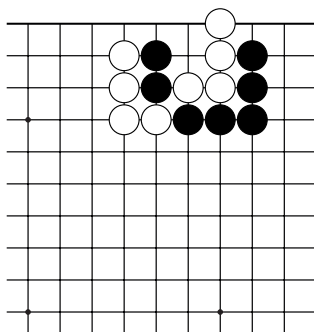
№51 Оиотоси. 5 ходов.



№52 "Защёлка". 1 ход.



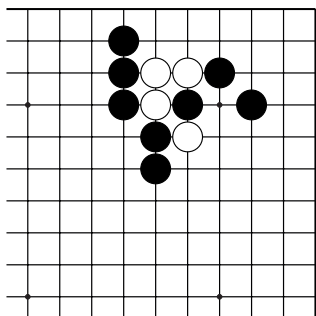
№53. Группа с глазом сильнее группы без глаза!
3 хода.



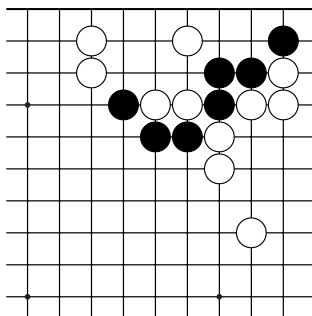
№54 "Полуглаз" на первой линии.
3 хода

Конкурс решения задач

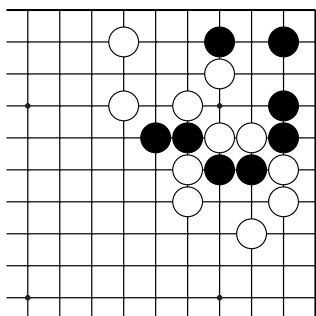
Найдите правильное решение, используя изученные приёмы.



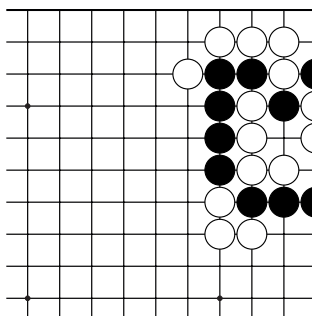
№55 "Лесенка". 5 ходов.



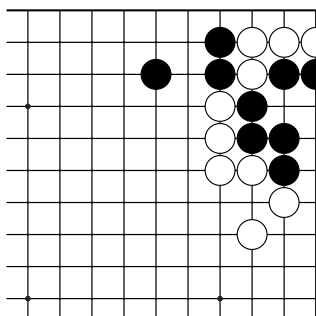
№56 "Хомутик". 3 хода.



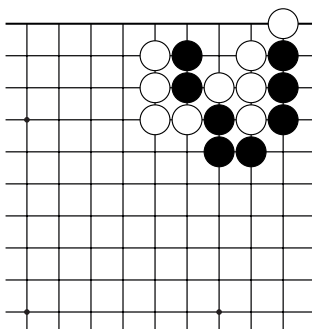
№57 Оиотоси. 9 ходов.



№58 "Защёлка". 1 ход.



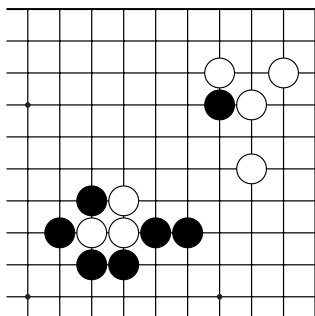
№59. Группа с глазом сильнее группы без глаза!
3 хода.



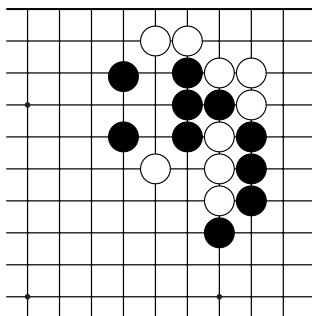
№60 "Полуглаз" на первой линии.
3 хода

Конкурс решения задач

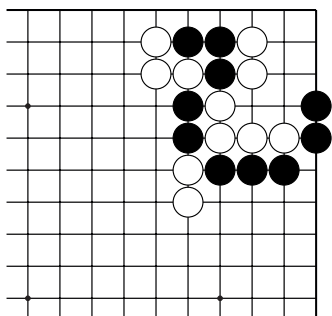
Найдите правильное решение, используя изученные приёмы.



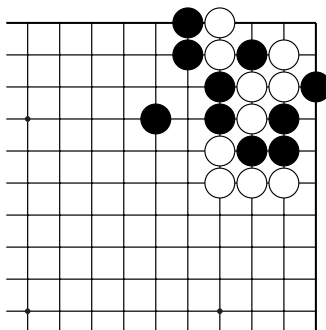
№61 "Лесенка". 9 ходов.



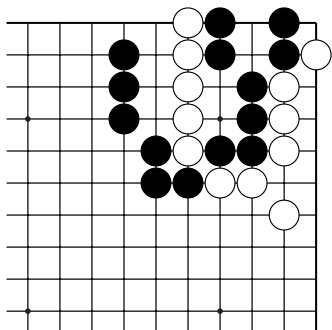
№62 "Хомутик". 3 хода.



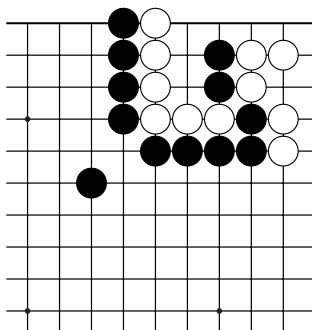
№63 Оиотоси. 5 ходов.



№64 "Защёлка". 1 ход.



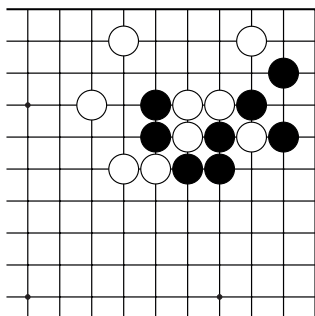
№65. Группа с глазом сильнее группы без глаза!
1 ход.



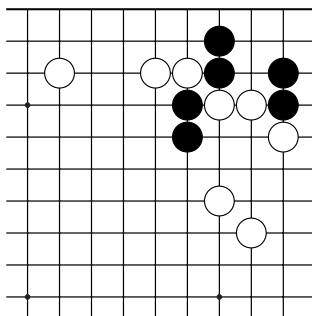
№66 "Полуглаз" на первой линии.
3 хода

Конкурс решения задач

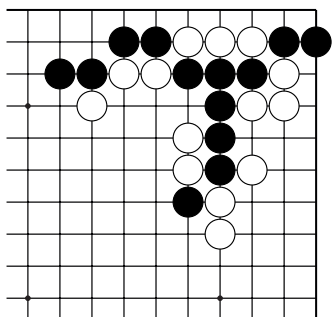
Найдите правильное решение, используя изученные приёмы.



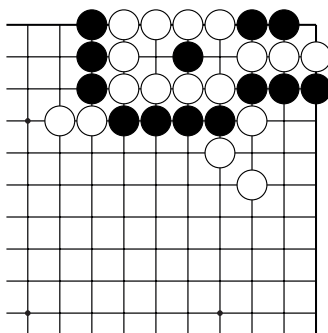
№67 "Лесенка". 9 ходов.



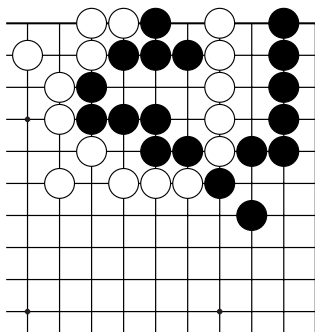
№68 "Хомутик". 3 хода.



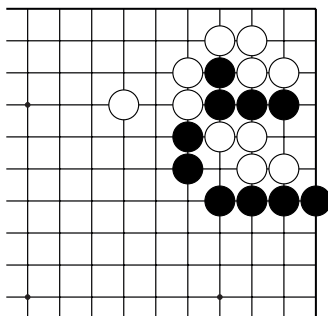
№69 Оиготси. 5 ходов.



№70 "Защёлка". 3 хода.



№71. Группа с глазом сильнее группы без глаза!
1 ход.



№72 "Полуглаз" на первой линии.
3 хода

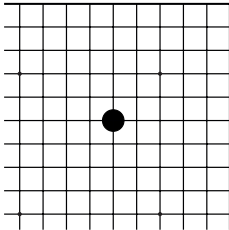
Контрольные и итоговые тесты

1 тест

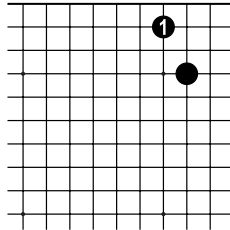
Тема	Вопросы	Варианты ответа
1. Происхождение и термины игры.	Кому принадлежит фраза: "То учить жить!"	А) Конфуцию Б) Лао Цзы
	Закончите пословицу: "В рэндзю играют простолюдины, в шахматы – герои, в го – ..."	А) Шахтёры Б) Боги
2. Правила игры.	Запрещено делать ход, если...	А) Камень стоит в углу доски Б) Позиция повторится
	Если внутри группы есть два свободных пункта, то туда ставить камень...	А) Разрешено безусловно Б) Разрешено, если внешние дам закрыты

3. Тактические комбинации (начинают чёрные).

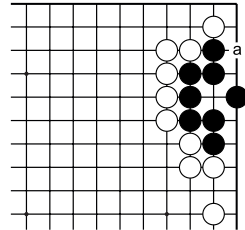
а) Сколько тоби можно сделать от камня чёрных?



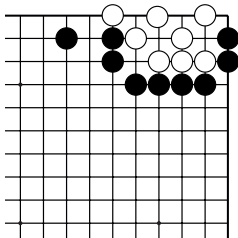
б) Ход ч.1 хорошее сямари или плохое?



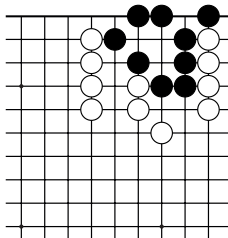
в) Где миаи для пункта "а"?



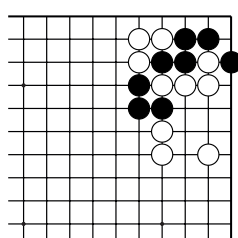
г) Как убить белых?



д) Как выжить чёрным?



е) Захватите белые камни приёмом "хомутик".



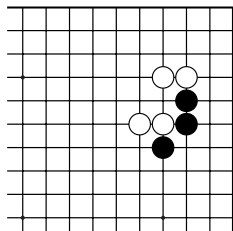
Контрольные и итоговые тесты

2 тест

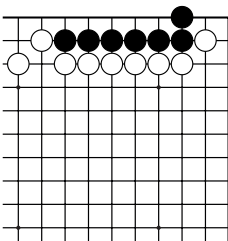
Тема	Вопросы	Варианты ответа
1. Системы соревнований	Круговая система – это...	А) Все участники играют друг с другом поочерёдно в порядке, определяемом таблицами очередности игры Б) Встреча двух игроков или команд между собой
2. Термины	Термин "ноби" – это...	А) удлинение от своего камня Б) прыжок через пункт
3. Правила игры.	Во время партии запрещается...	А) Записывать ходы противника. Б) Торопить противника сделать ход.
	Если противник сказал «пас», нужно...	А) Обязательно ответить "пас" Б) Подумать и сделать ход.

4. Основные приёмы и концепции (начинают чёрные)

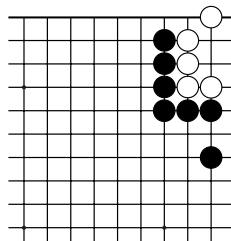
а) Каким ходом чёрные строят "пасть тигра"?



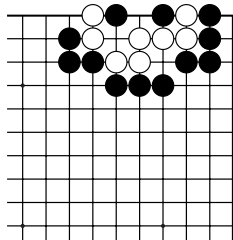
б) Как выжить?



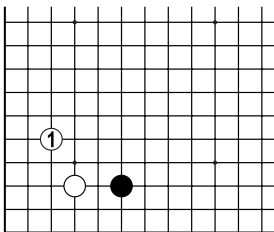
в) Как убить белых?



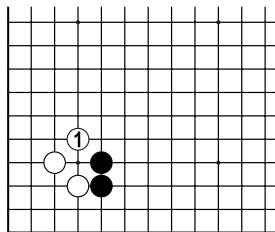
г) Как убить белых?



д) Как играть после б.1?



е) Как играть после б.1?



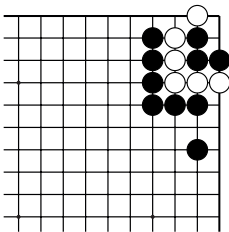
Контрольные и итоговые тесты

3 тест

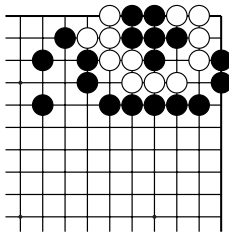
Тема	Вопросы	Варианты ответа
1. Этикет	Если вы взяли в руки камень, то нужно...	А) Сделать ход. Б) Ещё немножечко подумать.
2. Правила игры.	Если возникла спорная ситуация, нужно...	А) Позвонить другу Б) Позвать судью
	Ход считается сделанным, если...	А) Камень коснулся доски. Б) Рука отпустила камень.
3. Принципы начала партии.	В начале партии не нужно...	А) Ставить камни на третью и четвёртую линии. Б) Ставить камни на первую и вторую линии.

4. Основные приёмы и концепции

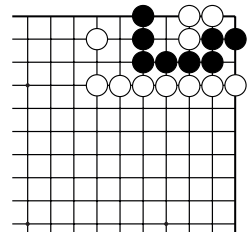
а) Как убить белых?



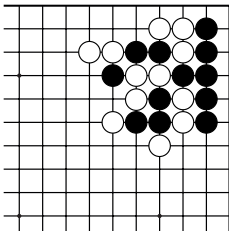
б) Как убить белых?



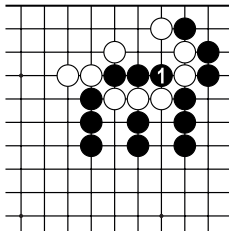
в) Постройте сэки



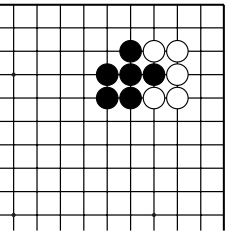
г) Какие камни белых лучше захватить?



д) Разрезание ч.1 хороший ход?



е) У кого форма лучше у чёрных или у белых?



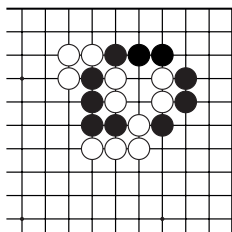
Контрольные и итоговые тесты

4 тест

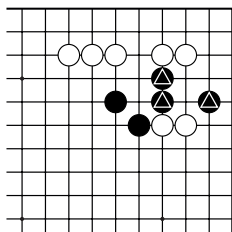
Тема	Вопросы	Варианты ответа
1. Системы соревнований	Олимпийская система – это...	А) Выбывание участника из соревнования после проигрыша. Б) Каждый участник одной команды играет поочерёдно со всеми членами другой команды.
	Кэффициент Бухгольца – это...	А) это сумма всех очков соперников, с которыми играл участник. Б) это сумма очков соперников, у которых участник выиграл.
2. Тактика	Если у группы один глаз в форме "квадратика", эта группа...	А) Мертва безусловно. Б) Жива при своём ходе.
	Если сэмзай не в вашу пользу, то...	А) Нужно доиграть сэмзай до конца. Б) Оставить позицию для коугроз

3. Основные приёмы и концепции

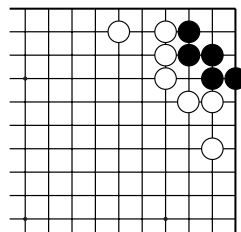
а) Захватите белые камни приёмом "защёлка".



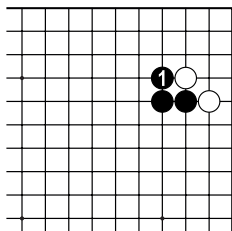
б) Создайте "бамбуковое" соединение между отмеченными камнями.



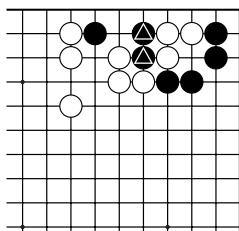
в) Как выжить чёрным?



г) Ход ч.1 создал хорошую форму или плохую?



д) Как спасти отмеченные камни чёрных?



е) Как спасти три чёрных камня в углу?

